

Print

TCSiON CAE

Notations :

- 1.Options shown in green color and with ✓ icon are correct.
- 2.Options shown in red color and with ✘ icon are incorrect.

Question Paper Name :	New TGT Physical Health Education
Subject Name :	TGT Physical and Health Education
Duration :	180
Total Marks :	180
Display Marks:	Yes
Share Answer Key With Delivery Engine :	No
Actual Answer Key :	Yes
Calculator :	None
Magnifying Glass Required? :	No
Ruler Required? :	No
Eraser Required? :	No
Scratch Pad Required? :	No
Rough Sketch/Notepad Required? :	No
Protractor Required? :	No
Show Watermark on Console? :	Yes
Highlighter :	No
Auto Save on Console?	No
Change Font Color :	No
Change Background Color :	No
Change Theme :	No
Help Button :	No
Show Reports :	No
Show Progress Bar :	No
Is this Group for Examiner? :	No
Examiner permission :	Cant View
Show Progress Bar? :	No
Enable Mark as Answered Mark for Review and Clear Response :	Yes
Maximum Instruction Time :	0
Is Section Default? :	null

Question Number : 1 Question Id : 630680175397 Is Question Mandatory : No Calculator : None Response Time : N.A Think Time : N.A Minimum Instruction Time : 0

Wrong Marks : 0

Sentences of a paragraph are given below in jumbled order. Arrange the sentences in the correct order to form a meaningful and coherent paragraph.

- 1) His brother Roy got him a job at the Pesmen Rubin Art Studio, where he met cartoonist Ubbe Eert Iwwerks and together they did a series of fairy tales.
- 2) When Disney was 16, he dropped out of school to join the army but was rejected for being underage.
- 3) Instead, he joined the Red Cross and was sent to France for a year to drive an ambulance.
- 4) When Disney returned from France in 1919, he moved back to Kansas City to pursue a career as a newspaper artist.

Options :

1. ✘ 1,4,3,2
2. ✘ 2,4,3,1
3. ✘ 3,1,4,2

4. ✓ 2,3,4,1

Question Number : 1 Question Id : 630680175397 Is Question Mandatory : No Calculator : None Response Time : N.A Think Time : N.A Minimum Instruction Time : 0

Wrong Marks : 0

Sentences of a paragraph are given below in jumbled order. Arrange the sentences in the correct order to form a meaningful and coherent paragraph.

- 1) His brother Roy got him a job at the Pesmen Rubin Art Studio, where he met cartoonist Ubbe Eert Iwwerks and together they did a series of fairy tales.
- 2) When Disney was 16, he dropped out of school to join the army but was rejected for being underage.
- 3) Instead, he joined the Red Cross and was sent to France for a year to drive an ambulance.
- 4) When Disney returned from France in 1919, he moved back to Kansas City to pursue a career as a newspaper artist.

Options :

1. ✗ 1,4,3,2
2. ✗ 2,4,3,1
3. ✗ 3,1,4,2
4. ✓ 2,3,4,1

Question Number : 2 Question Id : 630680175398 Is Question Mandatory : No Calculator : None Response Time : N.A Think Time : N.A Minimum Instruction Time : 0

Wrong Marks : 0

Some words have been deleted from the passage given below. Select the correct option to fill in each blank sequentially.

Around the world, forests are being destroyed at a rate of about thirteen million hectares a year and _____ accounts for an estimated 17%-20% of all global emissions. In _____, forests and other terrestrial carbon sinks play a vital role in _____ runaway climate change, soaking up a full 2.6 Gt of atmospheric carbon every year. The destruction of forests, therefore, not only emits carbon - a staggering 1.6 Gt a year, which severely impairs forests capacity to _____ emissions from other sources - but also drastically reduces the amount of forested land available to act as a carbon sink in the future.

Options :

1. ✗ degradation, extension, forbidding, consume
2. ✗ afforestation, inclusion, prohibiting, ingest
3. ✓ deforestation, addition, preventing, absorb
4. ✗ upgradation, accession, restraining, swallow

Question Number : 2 Question Id : 630680175398 Is Question Mandatory : No Calculator : None Response Time : N.A Think Time : N.A Minimum Instruction Time : 0

Wrong Marks : 0

Some words have been deleted from the passage given below. Select the correct option to fill in each blank sequentially.

Around the world, forests are being destroyed at a rate of about thirteen million hectares a year and _____ accounts for an estimated 17%-20% of all global emissions. In _____, forests and other terrestrial carbon sinks play a vital role in _____ runaway climate change, soaking up a full 2.6 Gt of atmospheric carbon every year. The destruction of forests, therefore, not only emits carbon - a staggering 1.6 Gt a year, which severely impairs forests capacity to _____ emissions from other sources - but also drastically reduces the amount of forested land available to act as a carbon sink in the future.

Options :

1. ✗ degradation, extension, forbidding, consume
2. ✗ afforestation, inclusion, prohibiting, ingest
3. ✓ deforestation, addition, preventing, absorb
4. ✗ upgradation, accession, restraining, swallow

Question Number : 3 Question Id : 630680175399 Is Question Mandatory : No Calculator : None Response Time : N.A Think Time : N.A Minimum Instruction Time : 0

Wrong Marks : 0

Some words have been deleted from the passage given below. Select the correct option to fill in each blank sequentially.

The small village of Somnathpur contains an extraordinary temple, _____ around AD 1268 by the Hoyasalas of Karnataka - one of the _____ prolific temple-builders. Belur and Helebid are _____ their better-known works. While these suffered during the invasions of the 14th century, the Somnathpur temple stands _____ intact in near-original condition.

Options :

1. ✘ build, more, between, much and more
2. ✘ building, much, amongst, many and more
3. ✔ built, most, among, more or less
4. ✘ was builds, most, in, more or less

Question Number : 3 Question Id : 630680175399 Is Question Mandatory : No Calculator : None Response Time : N.A Think Time : N.A Minimum Instruction Time : 0

Wrong Marks : 0

Some words have been deleted from the passage given below. Select the correct option to fill in each blank sequentially.

The small village of Somnathpur contains an extraordinary temple, _____ around AD 1268 by the Hoyasalas of Karnataka - one of the _____ prolific temple-builders. Belur and Helebid are _____ their better-known works. While these suffered during the invasions of the 14th century, the Somnathpur temple stands _____ intact in near-original condition.

Options :

1. ✘ build, more, between, much and more
2. ✘ building, much, amongst, many and more
3. ✔ built, most, among, more or less
4. ✘ was builds, most, in, more or less

Question Number : 4 Question Id : 630680175400 Is Question Mandatory : No Calculator : None Response Time : N.A Think Time : N.A Minimum Instruction Time : 0

Wrong Marks : 0

Select the option that can be used as a one-word substitute for the given group of words.

A person who loves music

Options :

1. ✘ Gastronome
2. ✘ Chrematophile
3. ✘ Oneirophile
4. ✔ Melophile

Question Number : 4 Question Id : 630680175400 Is Question Mandatory : No Calculator : None Response Time : N.A Think Time : N.A Minimum Instruction Time : 0

Wrong Marks : 0

Select the option that can be used as a one-word substitute for the given group of words.

A person who loves music

Options :

1. ✘ Gastronome
2. ✘ Chrematophile
3. ✘ Oneirophile
4. ✔ Melophile

Question Number : 5 Question Id : 630680175401 Is Question Mandatory : No Calculator : None Response Time : N.A Think Time : N.A Minimum Instruction Time : 0

Wrong Marks : 0

Select the most appropriate option to fill in the blank.

My goals are to go back to college and _____.

Options :

1. ✘ steal a degree
2. ✘ buy a degree
3. ✘ sell a degree
4. ✔ get a degree

Question Number : 5 Question Id : 630680175401 Is Question Mandatory : No Calculator : None Response Time : N.A Think Time : N.A Minimum Instruction Time : 0

Wrong Marks : 0

Select the most appropriate option to fill in the blank.

My goals are to go back to college and _____.

Options :

1. ✘ steal a degree
2. ✘ buy a degree
3. ✘ sell a degree
4. ✔ get a degree

Question Number : 6 Question Id : 630680175402 Is Question Mandatory : No Calculator : None Response Time : N.A Think Time : N.A Minimum Instruction Time : 0

Wrong Marks : 0

Select the most appropriate ANTONYM of the highlighted word.

Everyday my friend **humiliates** me.

Options :

1. ✘ vanquishes
2. ✔ lauds
3. ✘ dissents
4. ✘ abashes

Question Number : 6 Question Id : 630680175402 Is Question Mandatory : No Calculator : None Response Time : N.A Think Time : N.A Minimum Instruction Time : 0

Wrong Marks : 0

Select the most appropriate ANTONYM of the highlighted word.

Everyday my friend **humiliates** me.

Options :

1. ✘ vanquishes
2. ✔ lauds
3. ✘ dissents
4. ✘ abashes

Question Number : 7 Question Id : 630680175403 Is Question Mandatory : No Calculator : None Response Time : N.A Think Time : N.A Minimum Instruction Time : 0

Wrong Marks : 0

Select the most appropriate homonyms to fill in the blanks.

I hope you were not _____ to me that my books were _____ on the table.

Options :

1. ✔ lying
2. ✘ laying
3. ✘ lies
4. ✘ lie

Question Number : 7 Question Id : 630680175403 Is Question Mandatory : No Calculator : None Response Time : N.A Think Time : N.A Minimum Instruction Time : 0

Wrong Marks : 0

Select the most appropriate homonyms to fill in the blanks.

I hope you were not _____ to me that my books were _____ on the table.

Options :

1. ✓ lying
2. ✗ laying
3. ✗ lies
4. ✗ lie

Question Number : 8 Question Id : 630680175404 Is Question Mandatory : No Calculator : None Response Time : N.A Think Time : N.A Minimum Instruction Time : 0

Wrong Marks : 0

Select the INCORRECTLY spelt word.

Options :

1. ✓ Questionaire
2. ✗ Youngsters
3. ✗ Violence
4. ✗ Glutinous

Question Number : 8 Question Id : 630680175404 Is Question Mandatory : No Calculator : None Response Time : N.A Think Time : N.A Minimum Instruction Time : 0

Wrong Marks : 0

Select the INCORRECTLY spelt word.

Options :

1. ✓ Questionaire
2. ✗ Youngsters
3. ✗ Violence
4. ✗ Glutinous

Question Number : 9 Question Id : 630680175405 Is Question Mandatory : No Calculator : None Response Time : N.A Think Time : N.A Minimum Instruction Time : 0

Wrong Marks : 0

Select the correctly spelt word.

Options :

1. ✗ Regnent
2. ✗ Impassible
3. ✓ Gobbet
4. ✗ Saturnnalia

Question Number : 9 Question Id : 630680175405 Is Question Mandatory : No Calculator : None Response Time : N.A Think Time : N.A Minimum Instruction Time : 0

Wrong Marks : 0

Select the correctly spelt word.

Options :

1. ✗ Regnent
2. ✗ Impassible
3. ✓ Gobbet
4. ✗ Saturnnalia

Question Number : 10 Question Id : 630680175406 Is Question Mandatory : No Calculator : None Response Time : N.A Think Time : N.A Minimum Instruction Time : 0

Wrong Marks : 0

Select the most appropriate meaning of the given idiom.

Scrape the barrel

Options :

1. ✗ To use the best people who are available
2. ✗ To go to sleep even when the environment is noisy

3. ✓ To use the worst people or things because that is all that is available
4. ✗ Being angry or grumpy about something

Question Number : 10 Question Id : 630680175406 Is Question Mandatory : No Calculator : None Response Time : N.A Think Time : N.A Minimum Instruction Time : 0

Wrong Marks : 0

Select the most appropriate meaning of the given idiom.

Scrape the barrel

Options :

1. ✗ To use the best people who are available
2. ✗ To go to sleep even when the environment is noisy
3. ✓ To use the worst people or things because that is all that is available
4. ✗ Being angry or grumpy about something

Question Number : 11 Question Id : 630680175407 Is Question Mandatory : No Calculator : None Response Time : N.A Think Time : N.A Minimum Instruction Time : 0

Wrong Marks : 0

Select the most appropriate meaning of the given idiom.

Boil the ocean

Options :

1. ✗ Doing something in an easier and least expensive manner
2. ✗ Staying informed and updated about everything
3. ✗ Making people angry by talking too much with them
4. ✓ To undertake an impossible task or project

Question Number : 11 Question Id : 630680175407 Is Question Mandatory : No Calculator : None Response Time : N.A Think Time : N.A Minimum Instruction Time : 0

Wrong Marks : 0

Select the most appropriate meaning of the given idiom.

Boil the ocean

Options :

1. ✗ Doing something in an easier and least expensive manner
2. ✗ Staying informed and updated about everything
3. ✗ Making people angry by talking too much with them
4. ✓ To undertake an impossible task or project

Question Number : 12 Question Id : 630680175408 Is Question Mandatory : No Calculator : None Response Time : N.A Think Time : N.A Minimum Instruction Time : 0

Wrong Marks : 0

Select the sentence with correct use of preposition from the given options.

Options :

1. ✓ Yeah! We are in time to catch the train.
2. ✗ Yeah! We are on time too catch the train.
3. ✗ Yeah! We are into the time to catch the train.
4. ✗ Yeah! We are on the time for catch the train.

Question Number : 12 Question Id : 630680175408 Is Question Mandatory : No Calculator : None Response Time : N.A Think Time : N.A Minimum Instruction Time : 0

Wrong Marks : 0

Select the sentence with correct use of preposition from the given options.

Options :

1. ✓ Yeah! We are in time to catch the train.

2. ✖ Yeah! We are on time too catch the train.
3. ✖ Yeah! We are into the time to catch the train.
4. ✖ Yeah! We are on the time for catch the train.

Is Section Default? :

null

Question Id : 630680175409 Sub Question Shuffling Allowed : Yes Group Comprehension Questions : No Question Pattern Type : NonMatrix Calculator : None Response Time : N.A Think Time : N.A Minimum Instruction Time : 0

Question Numbers : (13 to 15)

Read the passage and answer the question that follows.

Everybody wants to succeed in life. For some, success means achieving whatever they desire or dream. For many it is the name, fame and social position. Whatever be the meaning of success, it is success which makes a man popular.

All great men have been successful. They are remembered for their great achievements. But it is certain that success comes to those who are sincere, hardworking, loyal and committed to their goals. Success has been man's greatest motivation. It is very important for all. Success has a great effect on life. It brings pleasure and pride. It gives a sense of fulfilment. It means all-around development. Everybody hopes to be successful in life. But success smiles on those who have a proper approach, planning, vision and stamina. A proper and timely application of all these things is bound to bear fruit. One cannot be successful without cultivating these certain basic things in life. It is very difficult to set out on a journey without knowing one's goals and purposes. Clarity of the objective is a must to succeed in life. A focused approach with proper planning is certain to bring success. Indecision and insincerity are big obstacles on the path to success.

One should have the capability, capacity and resources to turn one's dreams into reality. Mere desire cannot bring you success. The desire should be weighed against factors like capability and resources. This is the basic requirement of success. The next important thing is the eagerness, seriousness and the urge to be successful. It is the driving force which decides the success. It is the first step on the ladder of success.

One needs to pursue one's goals with all one's sincerity and passion. One should always be in high spirit. Lack of such spirit leads to an inferiority complex which is a big obstruction on the path to success. Time is also a deciding factor. Only the punctual and committed have succeeded in life. Lives of great men are examples of this. They had all these qualities in plenty which helped them rise to the peak of success.

Hard labour is one of the basic requirements of success. There is no substitute for hard labour. It alone can take one to the peak of success. Every success has a ratio of five percent inspiration and ninety-five percent perspiration. It is the patience, persistence and perseverance which play a decisive role in achieving success. Failures are the pillars of success as they are our stepping-stones and we must get up and start again and be motivated.

Sub questions

Question Number : 13 Question Id : 630680175410 Is Question Mandatory : No Calculator : None Response Time : N.A Think Time : N.A Minimum Instruction Time : 0

Wrong Marks : 0

To whom does success come certainly?

Options :

1. ✖ To the people who are earnest, leaden, loyal and impermanent
2. ✖ To the people who are earnest, enervated, loyal and volatile
3. ✔ To the people who are earnest, diligent, focussed and devoted
4. ✖ To the people who are whimsical, phlegmatic, loyal and devoted

Question Number : 14 Question Id : 630680175411 Is Question Mandatory : No Calculator : None Response Time : N.A Think Time : N.A Minimum Instruction Time : 0

Wrong Marks : 0

Which of the following does NOT lead to success?

Options :

1. ✖ passion
2. ✖ sincerity
3. ✖ commitment
4. ✔ indecision

Question Number : 15 Question Id : 630680175412 Is Question Mandatory : No Calculator : None Response Time : N.A Think Time : N.A Minimum Instruction Time : 0

Wrong Marks : 0

Select the correct synonym for the word “goals” as used in the passage

Options :

1. ✓ mission
2. ✗ limit
3. ✗ station
4. ✗ satisfaction

Question Id : 630680175409 Sub Question Shuffling Allowed : Yes Group Comprehension Questions : No Question Pattern Type : NonMatrix Calculator : None Response Time : N.A Think Time : N.A Minimum Instruction Time : 0

Question Numbers : (13 to 15)

Read the passage and answer the question that follows.

Everybody wants to succeed in life. For some, success means achieving whatever they desire or dream. For many it is the name, fame and social position. Whatever be the meaning of success, it is success which makes a man popular.

All great men have been successful. They are remembered for their great achievements. But it is certain that success comes to those who are sincere, hardworking, loyal and committed to their goals. Success has been man’s greatest motivation. It is very important for all. Success has a great effect on life. It brings pleasure and pride. It gives a sense of fulfilment. It means all-around development. Everybody hopes to be successful in life. But success smiles on those who have a proper approach, planning, vision and stamina. A proper and timely application of all these things is bound to bear fruit. One cannot be successful without cultivating these certain basic things in life. It is very difficult to set out on a journey without knowing one’s goals and purposes. Clarity of the objective is a must to succeed in life. A focused approach with proper planning is certain to bring success. Indecision and insincerity are big obstacles on the path to success.

One should have the capability, capacity and resources to turn one’s dreams into reality. Mere desire cannot bring you success. The desire should be weighed against factors like capability and resources. This is the basic requirement of success. The next important thing is the eagerness, seriousness and the urge to be successful. It is the driving force which decides the success. It is the first step on the ladder of success.

One needs to pursue one’s goals with all one’s sincerity and passion. One should always be in high spirit. Lack of such spirit leads to an inferiority complex which is a big obstruction on the path to success. Time is also a deciding factor. Only the punctual and committed have succeeded in life. Lives of great men are examples of this. They had all these qualities in plenty which helped them rise to the peak of success.

Hard labour is one of the basic requirements of success. There is no substitute for hard labour. It alone can take one to the peak of success. Every success has a ratio of five percent inspiration and ninety-five percent perspiration. It is the patience, persistence and perseverance which play a decisive role in achieving success. Failures are the pillars of success as they are our stepping-stones and we must get up and start again and be motivated.

Sub questions

Question Number : 13 Question Id : 630680175410 Is Question Mandatory : No Calculator : None Response Time : N.A Think Time : N.A Minimum Instruction Time : 0

Wrong Marks : 0

To whom does success come certainly?

Options :

1. ✗ To the people who are earnest, leaden, loyal and impermanent
2. ✗ To the people who are earnest, enervated, loyal and volatile
3. ✓ To the people who are earnest, diligent, focussed and devoted
4. ✗ To the people who are whimsical, phlegmatic, loyal and devoted

Question Number : 14 Question Id : 630680175411 Is Question Mandatory : No Calculator : None Response Time : N.A Think Time : N.A Minimum Instruction Time : 0

Wrong Marks : 0

Which of the following does NOT lead to success?

Options :

1. ✗ passion
2. ✗ sincerity
3. ✗ commitment
4. ✓ indecision

Question Number : 15 Question Id : 630680175412 Is Question Mandatory : No Calculator : None Response Time : N.A Think

Time : N.A Minimum Instruction Time : 0

Wrong Marks : 0

Select the correct synonym for the word “goals” as used in the passage

Options :

1. ✓ mission
2. ✗ limit
3. ✗ station
4. ✗ satisfaction

Enable Mark as Answered Mark for Review and Clear Response : Yes

Maximum Instruction Time : 0

Is Section Default? : null

Question Number : 16 Question Id : 630680175413 Is Question Mandatory : No Calculator : None Response Time : N.A Think Time : N.A Minimum Instruction Time : 0

Wrong Marks : 0

वाक्य-विन्यास की दृष्टि से शुद्ध वाक्य का चयन कीजिए।

Options :

1. ✓ अष्टछाप के भक्त कवि सांसारिक जीवन से पूर्णतया निस्पृह थे।
2. ✗ सांसारिक जीवन से पूर्णतया निस्पृह थे अष्टछाप के भक्त कवि।
3. ✗ अष्टछाप के भक्त कवि पूर्णतया निस्पृह थे सांसारिक जीवन से।
4. ✗ पूर्णतया निस्पृह थे सांसारिक जीवन से अष्टछाप के भक्त कवि।

Question Number : 16 Question Id : 630680175413 Is Question Mandatory : No Calculator : None Response Time : N.A Think Time : N.A Minimum Instruction Time : 0

Wrong Marks : 0

वाक्य-विन्यास की दृष्टि से शुद्ध वाक्य का चयन कीजिए।

Options :

1. ✓ अष्टछाप के भक्त कवि सांसारिक जीवन से पूर्णतया निस्पृह थे।
2. ✗ सांसारिक जीवन से पूर्णतया निस्पृह थे अष्टछाप के भक्त कवि।
3. ✗ अष्टछाप के भक्त कवि पूर्णतया निस्पृह थे सांसारिक जीवन से।
4. ✗ पूर्णतया निस्पृह थे सांसारिक जीवन से अष्टछाप के भक्त कवि।

Question Number : 17 Question Id : 630680175414 Is Question Mandatory : No Calculator : None Response Time : N.A Think Time : N.A Minimum Instruction Time : 0

Wrong Marks : 0

वाक्य-विन्यास की दृष्टि से शुद्ध वाक्य का चयन कीजिए।

Options :

1. ✗ काव्य की संज्ञा ही नहीं देना चाहते आचार्य कुंतक अलंकार-विहीन काव्य को।
2. ✗ आचार्य कुंतक अलंकार-विहीन काव्य को नहीं देना चाहते काव्य की संज्ञा ही।
3. ✓ आचार्य कुंतक अलंकार-विहीन काव्य को काव्य की संज्ञा ही नहीं देना चाहते।
4. ✗ काव्य की संज्ञा ही अलंकार-विहीन काव्य को नहीं देना चाहते आचार्य कुंतक।

Question Number : 17 Question Id : 630680175414 Is Question Mandatory : No Calculator : None Response Time : N.A Think Time : N.A Minimum Instruction Time : 0

Wrong Marks : 0

वाक्य-विन्यास की दृष्टि से शुद्ध वाक्य का चयन कीजिए।

Options :

1. ✗ काव्य की संज्ञा ही नहीं देना चाहते आचार्य कुंतक अलंकार-विहीन काव्य को।
2. ✗ आचार्य कुंतक अलंकार-विहीन काव्य को नहीं देना चाहते काव्य की संज्ञा ही।
3. ✓ आचार्य कुंतक अलंकार-विहीन काव्य को काव्य की संज्ञा ही नहीं देना चाहते।

4. ✖ काव्य की संज्ञा ही अलंकार-विहीन काव्य को नहीं देना चाहते आचार्य कुंतक।

Question Number : 18 Question Id : 630680175415 Is Question Mandatory : No Calculator : None Response Time : N.A Think Time : N.A Minimum Instruction Time : 0

Wrong Marks : 0

दिए गए शब्दों में से सर्वोचित शब्द चुनकर निम्नलिखित वाक्य पूर्ण करें।

प्रेमचंद साहित्य के क्षेत्र में कुछ बेहतरीन करने या कर पाने की _____ लेकर आए थे।

Options :

1. ✔ आकांक्षा
2. ✖ कल्पना
3. ✖ अनिच्छा
4. ✖ उत्कंठा

Question Number : 18 Question Id : 630680175415 Is Question Mandatory : No Calculator : None Response Time : N.A Think Time : N.A Minimum Instruction Time : 0

Wrong Marks : 0

दिए गए शब्दों में से सर्वोचित शब्द चुनकर निम्नलिखित वाक्य पूर्ण करें।

प्रेमचंद साहित्य के क्षेत्र में कुछ बेहतरीन करने या कर पाने की _____ लेकर आए थे।

Options :

1. ✔ आकांक्षा
2. ✖ कल्पना
3. ✖ अनिच्छा
4. ✖ उत्कंठा

Question Number : 19 Question Id : 630680175416 Is Question Mandatory : No Calculator : None Response Time : N.A Think Time : N.A Minimum Instruction Time : 0

Wrong Marks : 0

दिए गए शब्दों में से सर्वोचित शब्द से निम्न वाक्य पूर्ण करें।

सर्वप्रथम आदर्शवाद और यथार्थवाद के विषय में प्रेमचंद के _____ का विवेचन ज़रूरी है।

Options :

1. ✖ अनुमानों
2. ✖ अनुसंधानों
3. ✔ विचारों
4. ✖ प्रयोगों

Question Number : 19 Question Id : 630680175416 Is Question Mandatory : No Calculator : None Response Time : N.A Think Time : N.A Minimum Instruction Time : 0

Wrong Marks : 0

दिए गए शब्दों में से सर्वोचित शब्द से निम्न वाक्य पूर्ण करें।

सर्वप्रथम आदर्शवाद और यथार्थवाद के विषय में प्रेमचंद के _____ का विवेचन ज़रूरी है।

Options :

1. ✖ अनुमानों
2. ✖ अनुसंधानों
3. ✔ विचारों
4. ✖ प्रयोगों

Question Number : 20 Question Id : 630680175417 Is Question Mandatory : No Calculator : None Response Time : N.A Think Time : N.A Minimum Instruction Time : 0

Wrong Marks : 0

"किसी अवधि से संबंध रखने वाला" वाक्यांश के लिए एक शब्द होगा।

Options :

1. ✓ आवधिक
2. ✗ आवसित
3. ✗ आवधीक
4. ✗ आवरित

Question Number : 20 Question Id : 630680175417 Is Question Mandatory : No Calculator : None Response Time : N.A Think Time : N.A Minimum Instruction Time : 0

Wrong Marks : 0

"किसी अवधि से संबंध रखने वाला" वाक्यांश के लिए एक शब्द होगा।

Options :

1. ✓ आवधिक
2. ✗ आवसित
3. ✗ आवधीक
4. ✗ आवरित

Question Number : 21 Question Id : 630680175418 Is Question Mandatory : No Calculator : None Response Time : N.A Think Time : N.A Minimum Instruction Time : 0

Wrong Marks : 0

'विवाहिता पत्नी से उत्पन्न संतान' वाक्यांश के लिए एक शब्द होगा।

Options :

1. ✗ जारज
2. ✗ औरेब
3. ✓ औरस
4. ✗ औघर

Question Number : 21 Question Id : 630680175418 Is Question Mandatory : No Calculator : None Response Time : N.A Think Time : N.A Minimum Instruction Time : 0

Wrong Marks : 0

'विवाहिता पत्नी से उत्पन्न संतान' वाक्यांश के लिए एक शब्द होगा।

Options :

1. ✗ जारज
2. ✗ औरेब
3. ✓ औरस
4. ✗ औघर

Question Number : 22 Question Id : 630680175419 Is Question Mandatory : No Calculator : None Response Time : N.A Think Time : N.A Minimum Instruction Time : 0

Wrong Marks : 0

न्यूनताबोधक अव्यय शब्द से दिया गया वाक्य पूर्ण करे।

मैं _____ 10 बजे तक घर पहुँच जाऊँगी।

Options :

1. ✗ बराबर
2. ✗ सर्वथा
3. ✗ ठीक
4. ✓ लगभग

Question Number : 22 Question Id : 630680175419 Is Question Mandatory : No Calculator : None Response Time : N.A Think Time : N.A Minimum Instruction Time : 0

Wrong Marks : 0

न्यूनताबोधक अव्यय शब्द से दिया गया वाक्य पूर्ण करे।

मैं _____ 10 बजे तक घर पहुँच जाऊँगी।

Options :

1. ✘ बराबर
2. ✘ सर्वथा
3. ✘ ठीक
4. ✔ लगभग

Question Number : 23 Question Id : 630680175420 Is Question Mandatory : No Calculator : None Response Time : N.A Think Time : N.A Minimum Instruction Time : 0

Wrong Marks : 0

उचित विभक्ति चिह्न से दिया गया वाक्य पूर्ण करें।

मोहन की दुकान _____ यह चीज खरीद लायी हूँ।

Options :

1. ✔ से
2. ✘ पर
3. ✘ को
4. ✘ में

Question Number : 23 Question Id : 630680175420 Is Question Mandatory : No Calculator : None Response Time : N.A Think Time : N.A Minimum Instruction Time : 0

Wrong Marks : 0

उचित विभक्ति चिह्न से दिया गया वाक्य पूर्ण करें।

मोहन की दुकान _____ यह चीज खरीद लायी हूँ।

Options :

1. ✔ से
2. ✘ पर
3. ✘ को
4. ✘ में

Question Number : 24 Question Id : 630680175421 Is Question Mandatory : No Calculator : None Response Time : N.A Think Time : N.A Minimum Instruction Time : 0

Wrong Marks : 0

‘सख्यैक्य’ का संधि विच्छेद है।

Options :

1. ✔ सखी + ऐक्य
2. ✘ सखी + यैक्य
3. ✘ सखि + ऐक्य
4. ✘ सख + यैक्य

Question Number : 24 Question Id : 630680175421 Is Question Mandatory : No Calculator : None Response Time : N.A Think Time : N.A Minimum Instruction Time : 0

Wrong Marks : 0

‘सख्यैक्य’ का संधि विच्छेद है।

Options :

1. ✔ सखी + ऐक्य
2. ✘ सखी + यैक्य
3. ✘ सखि + ऐक्य
4. ✘ सख + यैक्य

Question Number : 25 Question Id : 630680175422 Is Question Mandatory : No Calculator : None Response Time : N.A Think Time : N.A Minimum Instruction Time : 0

Wrong Marks : 0

‘वाग्घरि’ का संधि-विच्छेद होगा।

Options :

1. ✘ वाग् + घरि
2. ✘ वाग् + हरि
3. ✔ वाक् + हरि
4. ✘ वाक् + घरि

Question Number : 25 Question Id : 630680175422 Is Question Mandatory : No Calculator : None Response Time : N.A Think Time : N.A Minimum Instruction Time : 0

Wrong Marks : 0

‘वाग्घरि’ का संधि-विच्छेद होगा।

Options :

1. ✘ वाग् + घरि
2. ✘ वाग् + हरि
3. ✔ वाक् + हरि
4. ✘ वाक् + घरि

Question Number : 26 Question Id : 630680175423 Is Question Mandatory : No Calculator : None Response Time : N.A Think Time : N.A Minimum Instruction Time : 0

Wrong Marks : 0

निम्न में से भरतार का पर्याय है।

Options :

1. ✘ भरता
2. ✔ भर्ता
3. ✘ भत्ता
4. ✘ भद्दा

Question Number : 26 Question Id : 630680175423 Is Question Mandatory : No Calculator : None Response Time : N.A Think Time : N.A Minimum Instruction Time : 0

Wrong Marks : 0

निम्न में से भरतार का पर्याय है।

Options :

1. ✘ भरता
2. ✔ भर्ता
3. ✘ भत्ता
4. ✘ भद्दा

Question Number : 27 Question Id : 630680175424 Is Question Mandatory : No Calculator : None Response Time : N.A Think Time : N.A Minimum Instruction Time : 0

Wrong Marks : 0

निम्न में से कौन-सा विलोम युग्म असुमेलित है।

Options :

1. ✘ भेद्य – दुर्भेद्य
2. ✘ भोज्य – अभोज्य
3. ✘ मंद – द्रुत
4. ✔ भ्रांत – अनभ्रांत

Question Number : 27 Question Id : 630680175424 Is Question Mandatory : No Calculator : None Response Time : N.A Think Time : N.A Minimum Instruction Time : 0

Wrong Marks : 0

निम्न में से कौन-सा विलोम युग्म असुमेलित है।

Options :

1. ✖ भेद्य – दुर्भेद्य
2. ✖ भोज्य – अभोज्य
3. ✖ मंद – द्रुत
4. ✔ भ्रांत – अनभ्रांत

Is Section Default? :

null

Question Id : 630680175425 Sub Question Shuffling Allowed : Yes Group Comprehension Questions : No Question Pattern Type : NonMatrix Calculator : None Response Time : N.A Think Time : N.A Minimum Instruction Time : 0

Question Numbers : (28 to 30)

दिए गए गद्यांश को पढ़िए और प्रश्न का उत्तर दीजिए।

‘आंचलिक’ शब्द अंग्रेज़ी के रीजनल शब्द के पर्याय के रूप में हिंदी में प्रयुक्त हुआ है। अंग्रेज़ी में तीन लेखक आंचलिक उपन्यासकार के रूप में विशेष प्रसिद्ध हुए हैं: टामस हार्डी, ऑर्नल्ड बैनेट और विलियम फॉक्सर। ‘हिंदी साहित्यकोश कोश’ में कहा गया है कि “लेखक द्वारा अपनी रचना में ‘आंचलिकता की सिद्धि के लिए स्थानीय दृश्यों, प्रकृति, जलवायु, त्यौहार, लोकगीत, बातचीत का विशिष्ट ढंग, मुहावरे, लोकोक्तियाँ, भाषा के उच्चारण की विकृतियाँ, लोगों की स्वभावगत व व्यवहारगत विशेषताएँ, उनका अपना रोमांस, नैतिक मान्यताओं आदि का समावेश बड़ी सतर्कता और सावधानी से किया जाता है।” अंग्रेज़ी भाषा के आरम्भिक आंचलिक उपन्यासकारों में अंग्रेज़ी लेखिका मारिया एडवर्ड का नाम लिया जाता है। 1926 में प्रकाशित शिवपूजन सहाय की कृति ‘देहाती दुनिया’ में भोजपुरी जनपद के एक अंचल का मनोहारी चित्रण हुआ है। इसे हिंदी का प्रथम आंचलिक उपन्यास कहा जा सकता है। 1954 में रेणु के ‘मैला आंचल’ के प्रकाश के बाद ही हिंदी में एक स्वतंत्र प्रवृत्ति के रूप में आंचलिक उपन्यास की चर्चा आरम्भ हुई, नागार्जुन के ‘बलचनमा’ में आंचलिकता का पहली बार कलात्मक समावेश हुआ है। उदयशंकर भट्ट के उपन्यास ‘लोक परलोक’ में पश्चिमी उत्तर प्रदेश के तीर्थ ग्राम का मर्मस्पर्शी चित्रण हुआ है। रांगेय राघव के उपन्यास ‘कब तक पुकारूँ’ (1957) में राजस्थान और ब्रज की सीमा पर बसे गाँव के नटों का चित्रण किया गया है। इस उपन्यास में आंचलिकता के चित्रण के लिए क्षेत्र की सजीव भाषा का भी सहारा लिया गया है जिसमें खड़ी बोली हिंदी में ब्रजभाषा के शब्दों की बहुतायत है।

Sub questions

Question Number : 28 Question Id : 630680175426 Is Question Mandatory : No Calculator : None Response Time : N.A Think Time : N.A Minimum Instruction Time : 0

Wrong Marks : 0

निम्न में से किस साहित्यकार को अंग्रेज़ी भाषा के आरम्भिक आंचलिक उपन्यासकार के रूप में जाना जाता है?

Options :

1. ✖ टामस हार्डी
2. ✔ मारिया एडवर्ड
3. ✖ ऑर्नल्ड बैनेट
4. ✖ विलियम फॉक्सर

Question Number : 29 Question Id : 630680175427 Is Question Mandatory : No Calculator : None Response Time : N.A Think Time : N.A Minimum Instruction Time : 0

Wrong Marks : 0

रांगेय राघव के उपन्यास ‘कब तक पुकारूँ’ के संदर्भ में कौन सा विकल्प सही नहीं है?

Options :

1. ✖ इस उपन्यास का प्रकाशन 1957 में हुआ।
2. ✖ इसमें राजस्थान और ब्रज की सीमा पर बसे गाँव के नटों का चित्रण किया गया है।
3. ✔ इस उपन्यास की भाषा मेवाड़ी मिश्रित खड़ी बोली हिंदी है।
4. ✖ उपन्यास की विशेषता इसमें प्रयुक्त स्थानीय सजीव भाषा का प्रयोग है।

Question Number : 30 Question Id : 630680175428 Is Question Mandatory : No Calculator : None Response Time : N.A Think Time : N.A Minimum Instruction Time : 0

Wrong Marks : 0

गद्यांश के आधार पर आंचलिक उपन्यासों के विषय में निम्न में से कौन सा तथ्य सही नहीं है?

Options :

1. ✖ आंचलिक उपन्यास अपने अंचल की संस्कृति, लोकजीवन, भाषा व समस्याओं आदि को प्रस्तुत करता है।
2. ✔ 1926 में प्रकाशित शिवपूजन सहाय की कृति ‘लोक परलोक’ को हिंदी का प्रथम आंचलिक उपन्यास माना जाता है।

3. ✖ 1954 में रेणु के 'मैला आँचल' के प्रकाशन के बाद ही हिंदी में आंचलिक उपन्यास की चर्चा स्वतंत्र प्रवृत्ति के रूप में हुई।
4. ✖ नागार्जुन के 'बलचनमा' में आंचलिकता का पहली बार कलात्मक समावेश हुआ।

Question Id : 630680175425 Sub Question Shuffling Allowed : Yes Group Comprehension Questions : No Question Pattern Type : NonMatrix Calculator : None Response Time : N.A Think Time : N.A Minimum Instruction Time : 0

Question Numbers : (28 to 30)

दिए गए गद्यांश को पढ़िए और प्रश्न का उत्तर दीजिए।

'आंचलिक' शब्द अंग्रेज़ी के रीजनल शब्द के पर्याय के रूप में हिंदी में प्रयुक्त हुआ है। अंग्रेज़ी में तीन लेखक आंचलिक उपन्यासकार के रूप में विशेष प्रसिद्ध हुए हैं: टामस हार्डी, ऑर्नाल्ड बैनेट और विलियम फॉक्सर। 'हिंदी साहित्यकोश कोश' में कहा गया है कि "लेखक द्वारा अपनी रचना में 'आंचलिकता की सिद्धि के लिए स्थानीय दृश्यों, प्रकृति, जलवायु, त्यौहार, लोकगीत, बातचीत का विशिष्ट ढंग, मुहावरे, लोकोक्तियाँ, भाषा के उच्चारण की विकृतियाँ, लोगों की स्वभावगत व व्यवहारगत विशेषताएँ, उनका अपना रोमांस, नैतिक मान्यताओं आदि का समावेश बड़ी सतर्कता और सावधानी से किया जाता है।" अंग्रेज़ी भाषा के आरम्भिक आंचलिक उपन्यासकारों में अंग्रेज़ी लेखिका मारिया एडवर्ड का नाम लिया जाता है। 1926 में प्रकाशित शिवपूजन सहाय की कृति 'देहाती दुनिया' में भोजपुरी जनपद के एक अंचल का मनोहारी चित्रण हुआ है। इसे हिंदी का प्रथम आंचलिक उपन्यास कहा जा सकता है। 1954 में रेणु के 'मैला आँचल' के प्रकाश के बाद ही हिंदी में एक स्वतंत्र प्रवृत्ति के रूप में आंचलिक उपन्यास की चर्चा आरम्भ हुई, नागार्जुन के 'बलचनमा' में आंचलिकता का पहली बार कलात्मक समावेश हुआ है। उदयशंकर भट्ट के उपन्यास 'लोक परलोक' में पश्चिमी उत्तर प्रदेश के तीर्थ ग्राम का मर्मस्पर्शी चित्रण हुआ है। रांगेय राघव के उपन्यास 'कब तक पुकारूँ' (1957) में राजस्थान और ब्रज की सीमा पर बसे गाँव के नटों का चित्रण किया गया है। इस उपन्यास में आंचलिकता के चित्रण के लिए क्षेत्र की सजीव भाषा का भी सहारा लिया गया है जिसमें खड़ी बोली हिंदी में ब्रजभाषा के शब्दों की बहुतायत है।

Sub questions

Question Number : 28 Question Id : 630680175426 Is Question Mandatory : No Calculator : None Response Time : N.A Think Time : N.A Minimum Instruction Time : 0

Wrong Marks : 0

निम्न में से किस साहित्यकार को अंग्रेज़ी भाषा के आरम्भिक आंचलिक उपन्यासकार के रूप में जाना जाता है?

Options :

1. ✖ टामस हार्डी
2. ✔ मारिया एडवर्ड
3. ✖ ऑर्नाल्ड बैनेट
4. ✖ विलियम फॉक्सर

Question Number : 29 Question Id : 630680175427 Is Question Mandatory : No Calculator : None Response Time : N.A Think Time : N.A Minimum Instruction Time : 0

Wrong Marks : 0

रांगेय राघव के उपन्यास 'कब तक पुकारूँ' के संदर्भ में कौन सा विकल्प सही नहीं है?

Options :

1. ✖ इस उपन्यास का प्रकाशन 1957 में हुआ।
2. ✖ इसमें राजस्थान और ब्रज की सीमा पर बसे गाँव के नटों का चित्रण किया गया है।
3. ✔ इस उपन्यास की भाषा मेवाड़ी मिश्रित खड़ी बोली हिंदी है।
4. ✖ उपन्यास की विशेषता इसमें प्रयुक्त स्थानीय सजीव भाषा का प्रयोग है।

Question Number : 30 Question Id : 630680175428 Is Question Mandatory : No Calculator : None Response Time : N.A Think Time : N.A Minimum Instruction Time : 0

Wrong Marks : 0

गद्यांश के आधार पर आंचलिक उपन्यासों के विषय में निम्न में से कौन सा तथ्य सही नहीं है?

Options :

1. ✖ आंचलिक उपन्यास अपने अंचल की संस्कृति, लोकजीवन, भाषा व समस्याओं आदि को प्रस्तुत करता है।
2. ✔ 1926 में प्रकाशित शिवपूजन सहाय की कृति 'लोक परलोक' को हिंदी का प्रथम आंचलिक उपन्यास माना जाता है।
3. ✖ 1954 में रेणु के 'मैला आँचल' के प्रकाशन के बाद ही हिंदी में आंचलिक उपन्यास की चर्चा स्वतंत्र प्रवृत्ति के रूप में हुई।
4. ✖ नागार्जुन के 'बलचनमा' में आंचलिकता का पहली बार कलात्मक समावेश हुआ।

Is this Group for Examiner? :

No

Examiner permission :

Cant View

Show Progress Bar? :

No

Enable Mark as Answered Mark for Review and Clear Response : Yes
Maximum Instruction Time : 0
Is Section Default? : null

Question Number : 31 Question Id : 630680175429 Is Question Mandatory : No Calculator : None Response Time : N.A Think Time : N.A Minimum Instruction Time : 0

Wrong Marks : 0

In November 2022, against which pen making company were charges of Rs. 750 crore bank fraud alleged by CBI?

Options :

1. Rotomac Global
2. Parker pens
3. Luxor pens
4. Natraj Pens

Question Number : 31 Question Id : 630680175429 Is Question Mandatory : No Calculator : None Response Time : N.A Think Time : N.A Minimum Instruction Time : 0

Wrong Marks : 0

नवंबर 2022 में, किस पेन बनाने वाली कंपनी के विरुद्ध CBI ने ₹750 करोड़ की बैंक धोखाधड़ी का आरोप लगाया था?

Options :

1. रोटोमैक ग्लोबल (Rotomac Global)
2. पार्कर पेन्स (Parker pens)
3. लक्सर पेन्स (Luxor pens)
4. नटराज पेन्स (Natraj Pens)

Question Number : 32 Question Id : 630680175430 Is Question Mandatory : No Calculator : None Response Time : N.A Think Time : N.A Minimum Instruction Time : 0

Wrong Marks : 0

Approximately how many craft clusters have been identified as on March 2022 by the knowledge partner under the USTTAD scheme covering various traditional arts & crafts?

Options :

1. 56
2. 49
3. 36
4. 42

Question Number : 32 Question Id : 630680175430 Is Question Mandatory : No Calculator : None Response Time : N.A Think Time : N.A Minimum Instruction Time : 0

Wrong Marks : 0

विभिन्न पारंपरिक कलाओं और शिल्पों को कवर करने वाली USTTAD योजना के तहत नॉलेज पार्टनर (knowledge partner) द्वारा मार्च 2022 तक लगभग कितने शिल्प समूहों को चिह्नित किया गया है?

Options :

1. 56
2. 49
3. 36
4. 42

Question Number : 33 Question Id : 630680175431 Is Question Mandatory : No Calculator : None Response Time : N.A Think Time : N.A Minimum Instruction Time : 0

Wrong Marks : 0

Which campaign was launched in March 2022 by the Central Government to bring back out of school adolescent girls in India to the formal education and/or skilling system?

Options :

1. Kanya Kaushal Vikas Yatra

2. ✘ Beti Bachao Beti Padhao
3. ✔ Kanya Shiksha Pravesh Utsav
4. ✘ Nari Shiksha aur Kaushal Utsav

Question Number : 33 Question Id : 630680175431 Is Question Mandatory : No Calculator : None Response Time : N.A Think Time : N.A Minimum Instruction Time : 0

Wrong Marks : 0

मार्च 2022 में केंद्र सरकार ने भारत में स्कूली किशोरियों को औपचारिक शिक्षा और/या कौशल प्रणाली की ओर वापस लाने के लिए कौन सा अभियान शुरू किया था?

Options :

1. ✘ कन्या कौशल विकास यात्रा
2. ✘ बेटी बचाओ बेटी पढ़ाओ
3. ✔ कन्या शिक्षा प्रवेश उत्सव
4. ✘ नारी शिक्षा और कौशल उत्सव

Question Number : 34 Question Id : 630680175432 Is Question Mandatory : No Calculator : None Response Time : N.A Think Time : N.A Minimum Instruction Time : 0

Wrong Marks : 0

Who won the India's first-ever silver medal in the World Blitz Chess Championship that was held in December 2022?

Options :

1. ✔ Koneru Humpy
2. ✘ R Vaishali
3. ✘ Bhakti Kulkarni
4. ✘ Padmini Rout

Question Number : 34 Question Id : 630680175432 Is Question Mandatory : No Calculator : None Response Time : N.A Think Time : N.A Minimum Instruction Time : 0

Wrong Marks : 0

दिसंबर 2022 में आयोजित विश्व ब्लिट्ज शतरंज चैंपियनशिप (World Blitz Chess Championship) में भारत का पहला रजत पदक किसने जीता था?

Options :

1. ✔ कोनेरू हम्पी (Koneru Humpy)
2. ✘ आर. वैशाली (R Vaishali)
3. ✘ भक्ति कुलकर्णी (Bhakti Kulkarni)
4. ✘ पद्मिनी राउत (Padmini Rout)

Question Number : 35 Question Id : 630680175433 Is Question Mandatory : No Calculator : None Response Time : N.A Think Time : N.A Minimum Instruction Time : 0

Wrong Marks : 0

Who became the 76th Chess Grandmaster of India in September 2022?

Options :

1. ✘ Abhimanyu Mishra
2. ✔ Pranav Anand
3. ✘ GM Pranav Venkatesh
4. ✘ Rahul Srivatshav

Question Number : 35 Question Id : 630680175433 Is Question Mandatory : No Calculator : None Response Time : N.A Think Time : N.A Minimum Instruction Time : 0

Wrong Marks : 0

सितंबर 2022 में, भारत के 76वें शतरंज ग्रैंडमास्टर कौन बने थे?

Options :

1. ✘ अभिमन्यु मिश्रा (Abhimanyu Mishra)
2. ✔ प्रणव आनंद (Pranav Anand)
3. ✘ जी एम प्रणव वेंकटेश (GM Pranav Venkatesh)

4. ✖ राहुल श्रीवास्तव (Rahul Srivatshav)

Question Number : 36 Question Id : 630680175434 Is Question Mandatory : No Calculator : None Response Time : N.A Think Time : N.A Minimum Instruction Time : 0

Wrong Marks : 0

Who founded the Satya-Shodhak Samaj in 1873 to give strength to his movement?

Options :

1. ✖ Kandukuri Veeresalingam
2. ✖ Shree Narayana Guru
3. ✔ Jyotirao Govindrao Phule
4. ✖ Dayanand Saraswati

Question Number : 36 Question Id : 630680175434 Is Question Mandatory : No Calculator : None Response Time : N.A Think Time : N.A Minimum Instruction Time : 0

Wrong Marks : 0

अपने आंदोलन को बल देने के लिए 1873 में सत्य-शोधक समाज की स्थापना किसने की थी?

Options :

1. ✖ कंदुकुरि वीरेशलिंगम् (Kandukuri Veeresalingam)
2. ✖ श्री नारायण गुरु (Shree Narayana Guru)
3. ✔ ज्योतिराव गोविंदराव फुले (Jyotirao Govindrao Phule)
4. ✖ दयानंद सरस्वती (Dayanand Saraswati)

Question Number : 37 Question Id : 630680175435 Is Question Mandatory : No Calculator : None Response Time : N.A Think Time : N.A Minimum Instruction Time : 0

Wrong Marks : 0

In which of the following years was an act disallowing Indians from possessing arms passed by the British Government?

Options :

1. ✖ 1875
2. ✖ 1889
3. ✖ 1885
4. ✔ 1878

Question Number : 37 Question Id : 630680175435 Is Question Mandatory : No Calculator : None Response Time : N.A Think Time : N.A Minimum Instruction Time : 0

Wrong Marks : 0

निम्नलिखित में से किस वर्ष में ब्रिटिश सरकार ने भारतीयों को हथियार रखने से वर्जित करने वाला अधिनियम पारित किया था?

Options :

1. ✖ 1875
2. ✖ 1889
3. ✖ 1885
4. ✔ 1878

Question Number : 38 Question Id : 630680175436 Is Question Mandatory : No Calculator : None Response Time : N.A Think Time : N.A Minimum Instruction Time : 0

Wrong Marks : 0

Who was unanimously elected as the President of the Indian National Congress in its third session in Madras?

Options :

1. ✔ Badruddin Tyabji
2. ✖ Camruddin Tyabji
3. ✖ Dadabhai Naoroji
4. ✖ GK Gokhale

Question Number : 38 Question Id : 630680175436 Is Question Mandatory : No Calculator : None Response Time : N.A Think

Time : N.A Minimum Instruction Time : 0

Wrong Marks : 0

भारतीय राष्ट्रीय कांग्रेस के मद्रास में आयोजित इसके तीसरे अधिवेशन में निम्न में से किसे सर्वसम्मति से इसका अध्यक्ष चुना गया था?

Options :

1. ✓ बदरुद्दीन तैयबजी (Badruddin Tyabji)
2. ✗ कमरुद्दीन तैयबजी (Camruddin Tyabji)
3. ✗ दादाभाई नौरोजी (Dadabhai Naoroji)
4. ✗ जी. के. गोखले (GK Gokhale)

Question Number : 39 Question Id : 630680175437 Is Question Mandatory : No Calculator : None Response Time : N.A Think Time : N.A Minimum Instruction Time : 0

Wrong Marks : 0

How many principal Darshanas in total are recognised in the Hinduism?

Options :

1. ✗ Nine
2. ✓ Six
3. ✗ Twelve
4. ✗ Three

Question Number : 39 Question Id : 630680175437 Is Question Mandatory : No Calculator : None Response Time : N.A Think Time : N.A Minimum Instruction Time : 0

Wrong Marks : 0

हिंदू धर्म में कुल कितने प्रमुख दर्शनों को मान्यता प्राप्त है?

Options :

1. ✗ नौ
2. ✓ छह
3. ✗ बारह
4. ✗ तीन

Question Number : 40 Question Id : 630680175438 Is Question Mandatory : No Calculator : None Response Time : N.A Think Time : N.A Minimum Instruction Time : 0

Wrong Marks : 0

The holy text Tattvartha Sutra belongs to which religion?

Options :

1. ✗ Buddhism
2. ✗ Hinduism
3. ✓ Jainism
4. ✗ Judaism

Question Number : 40 Question Id : 630680175438 Is Question Mandatory : No Calculator : None Response Time : N.A Think Time : N.A Minimum Instruction Time : 0

Wrong Marks : 0

पवित्र ग्रंथ तत्त्वार्थ सूत्र किस धर्म से संबंधित है?

Options :

1. ✗ बौद्ध धर्म
2. ✗ हिन्दू धर्म
3. ✓ जैन धर्म
4. ✗ यहूदी धर्म

Question Number : 41 Question Id : 630680175439 Is Question Mandatory : No Calculator : None Response Time : N.A Think Time : N.A Minimum Instruction Time : 0

Wrong Marks : 0

Ustad Bismillah Khan belongs to a well-known family of musicians from which state of India?

Options :

1. ✘ Uttar Pradesh
2. ✘ Madhya Pradesh
3. ✘ Andhra Pradesh
4. ✔ Bihar

Question Number : 41 Question Id : 630680175439 Is Question Mandatory : No Calculator : None Response Time : N.A Think Time : N.A Minimum Instruction Time : 0

Wrong Marks : 0

उस्ताद बिस्मिल्लाह खान, किस भारतीय राज्य के प्रसिद्ध संगीतकार परिवार से संबंधित हैं?

Options :

1. ✘ उत्तर प्रदेश
2. ✘ मध्य प्रदेश
3. ✘ आंध्र प्रदेश
4. ✔ बिहार

Question Number : 42 Question Id : 630680175440 Is Question Mandatory : No Calculator : None Response Time : N.A Think Time : N.A Minimum Instruction Time : 0

Wrong Marks : 0

Kummi Paatu, a folk music performed during festivals and rituals, belongs to which Indian state?

Options :

1. ✔ Tamil Nadu
2. ✘ West Bengal
3. ✘ Assam
4. ✘ Nagaland

Question Number : 42 Question Id : 630680175440 Is Question Mandatory : No Calculator : None Response Time : N.A Think Time : N.A Minimum Instruction Time : 0

Wrong Marks : 0

त्योहारों और अनुष्ठानों के दौरान किया जाने वाला लोक संगीत कुम्मी पाटू (Kummi Paatu), किस भारतीय राज्य से संबंधित है?

Options :

1. ✔ तमिलनाडु
2. ✘ पश्चिम बंगाल
3. ✘ असम
4. ✘ नागालैंड

Question Number : 43 Question Id : 630680175441 Is Question Mandatory : No Calculator : None Response Time : N.A Think Time : N.A Minimum Instruction Time : 0

Wrong Marks : 0

The book titled 'The Test of My Life' is an autobiography of which famous personality?

Options :

1. ✘ Milkha Singh
2. ✔ Yuvraj Singh
3. ✘ Abhinav Bindra
4. ✘ Kapil Dev

Question Number : 43 Question Id : 630680175441 Is Question Mandatory : No Calculator : None Response Time : N.A Think Time : N.A Minimum Instruction Time : 0

Wrong Marks : 0

द टेस्ट ऑफ माई लाइफ नामक पुस्तक किस प्रसिद्ध व्यक्तित्व की आत्मकथा है?

Options :

1. ✘ मिल्खा सिंह
2. ✔ युवराज सिंह

3. ✖ अभिनव बिंद्रा
4. ✖ कपिल देव

Question Number : 44 Question Id : 630680175442 Is Question Mandatory : No Calculator : None Response Time : N.A Think Time : N.A Minimum Instruction Time : 0

Wrong Marks : 0

What is defined as the change in the output per unit of change in the input when all other inputs are held constant?

Options :

1. ✔ Marginal Product
2. ✖ Average Product
3. ✖ Total Product
4. ✖ Single Product

Question Number : 44 Question Id : 630680175442 Is Question Mandatory : No Calculator : None Response Time : N.A Think Time : N.A Minimum Instruction Time : 0

Wrong Marks : 0

सभी इनपुट को स्थिर रखते हुए इनपुट में परिवर्तन की प्रति इकाई आउटपुट में परिवर्तन के रूप में किसे परिभाषित किया जाता है?

Options :

1. ✔ सीमांत उत्पाद
2. ✖ औसत उत्पाद
3. ✖ कुल उत्पाद
4. ✖ एकल उत्पाद

Question Number : 45 Question Id : 630680175443 Is Question Mandatory : No Calculator : None Response Time : N.A Think Time : N.A Minimum Instruction Time : 0

Wrong Marks : 0

Which coastal stretch of the western coast of India is called 'Kannad Plain'?

Options :

1. ✖ Northern
2. ✔ Central
3. ✖ Southern
4. ✖ Eastern

Question Number : 45 Question Id : 630680175443 Is Question Mandatory : No Calculator : None Response Time : N.A Think Time : N.A Minimum Instruction Time : 0

Wrong Marks : 0

भारत के पश्चिमी तट के किस तटीय विस्तार को 'कन्नड़ का मैदान' कहा जाता है?

Options :

1. ✖ उत्तरी
2. ✔ मध्य
3. ✖ दक्षिणी
4. ✖ पूर्वी

Question Number : 46 Question Id : 630680175444 Is Question Mandatory : No Calculator : None Response Time : N.A Think Time : N.A Minimum Instruction Time : 0

Wrong Marks : 0

The average elevation of the Western Ghats is in the range of _____.

Options :

1. ✖ 200 – 400 m
2. ✖ 500 – 700 m
3. ✖ 1600 – 2200 m
4. ✔ 900 – 1600 m

Question Number : 46 Question Id : 630680175444 Is Question Mandatory : No Calculator : None Response Time : N.A Think Time : N.A Minimum Instruction Time : 0

Wrong Marks : 0

पश्चिमी घाट की औसत ऊंचाई (elevation) _____ की परास में है।

Options :

1. ✘ 200 – 400 m
2. ✘ 500 – 700 m
3. ✘ 1600 – 2200 m
4. ✔ 900 – 1600 m

Question Number : 47 Question Id : 630680175445 Is Question Mandatory : No Calculator : None Response Time : N.A Think Time : N.A Minimum Instruction Time : 0

Wrong Marks : 0

Which country shares the second longest land border with India after Bangladesh?

Options :

1. ✔ China
2. ✘ Pakistan
3. ✘ Nepal
4. ✘ Myanmar

Question Number : 47 Question Id : 630680175445 Is Question Mandatory : No Calculator : None Response Time : N.A Think Time : N.A Minimum Instruction Time : 0

Wrong Marks : 0

कौन सा देश बांग्लादेश के बाद भारत के साथ दूसरी सबसे लंबी भूमि सीमा साझा करता है?

Options :

1. ✔ चीन
2. ✘ पाकिस्तान
3. ✘ नेपाल
4. ✘ म्यांमार

Question Number : 48 Question Id : 630680175446 Is Question Mandatory : No Calculator : None Response Time : N.A Think Time : N.A Minimum Instruction Time : 0

Wrong Marks : 0

Which of the following is an example of a herbivore?

Options :

1. ✘ Lion
2. ✘ Fish
3. ✔ Cow
4. ✘ Grass

Question Number : 48 Question Id : 630680175446 Is Question Mandatory : No Calculator : None Response Time : N.A Think Time : N.A Minimum Instruction Time : 0

Wrong Marks : 0

निम्नलिखित में से कौन सा, शाकाहारी का उदाहरण है?

Options :

1. ✘ शेर
2. ✘ मछली
3. ✔ गाय
4. ✘ घास

Question Number : 49 Question Id : 630680175447 Is Question Mandatory : No Calculator : None Response Time : N.A Think Time : N.A Minimum Instruction Time : 0

Wrong Marks : 0

Starch that is present in our daily food is a _____.

Options :

1. ✖ vitamin
2. ✖ protein
3. ✖ fat
4. ✔ carbohydrate

Question Number : 49 Question Id : 630680175447 Is Question Mandatory : No Calculator : None Response Time : N.A Think Time : N.A Minimum Instruction Time : 0

Wrong Marks : 0

हमारे दैनिक खाद्य पदार्थ में उपस्थित स्टार्च, एक _____ होता है।

Options :

1. ✖ विटामिन
2. ✖ प्रोटीन
3. ✖ वसा
4. ✔ कार्बोहाइड्रेट

Question Number : 50 Question Id : 630680175448 Is Question Mandatory : No Calculator : None Response Time : N.A Think Time : N.A Minimum Instruction Time : 0

Wrong Marks : 0

Which of the following is the only amino acid that is obtained on hydrolysis of proteins?

Options :

1. ✔ α -amino acid
2. ✖ β -amino acid
3. ✖ γ -amino acid
4. ✖ δ -amino acid

Question Number : 50 Question Id : 630680175448 Is Question Mandatory : No Calculator : None Response Time : N.A Think Time : N.A Minimum Instruction Time : 0

Wrong Marks : 0

निम्नलिखित में से कौन सा एकमात्र ऐसा ऐमीनो अम्ल है, जो प्रोटीन के जल-अपघटन (hydrolysis) पर प्राप्त होता है?

Options :

1. ✔ α -ऐमीनो अम्ल
2. ✖ β -ऐमीनो अम्ल
3. ✖ γ -ऐमीनो अम्ल
4. ✖ δ -ऐमीनो अम्ल

Enable Mark as Answered Mark for Review and Clear Response : Yes

Maximum Instruction Time : 0

Is Section Default? : null

Question Number : 51 Question Id : 630680175449 Is Question Mandatory : No Calculator : None Response Time : N.A Think Time : N.A Minimum Instruction Time : 0

Wrong Marks : 0

Eight friends, K, L, M, N, O, P, Q and R, are sitting at equal distance from each other around a circular dining table. All are facing the centre. Q is sitting in front of P. R is sitting to the immediate right of L. M is sitting between Q and O. N is sitting opposite to M. P is sitting between N and K. O is sitting second to the left of Q. Who is sitting to the immediate left to K?

Options :

1. ✖ L

2. ✘ R

3. ✔ P

4. ✘ N

Question Number : 51 Question Id : 630680175449 Is Question Mandatory : No Calculator : None Response Time : N.A Think Time : N.A Minimum Instruction Time : 0

Wrong Marks : 0

आठ मित्र, K, L, M, N, O, P, Q और R, एक गोल डाइनिंग टेबल के परितः एक-दूसरे से समान दूरी पर बैठे हैं। सभी केंद्र की ओर अभिमुख हैं। Q, P के सामने बैठा है। R, L के ठीक दाएं बैठा है। M, Q और O के बीच में बैठा है। N, M के सामने बैठा है। P, N और K के बीच बैठा है। O, Q के बाएं से दूसरे स्थान पर बैठा है। K के ठीक बाएं कौन बैठा है?

Options :

1. ✘ L

2. ✘ R

3. ✔ P

4. ✘ N

Question Number : 52 Question Id : 630680175450 Is Question Mandatory : No Calculator : None Response Time : N.A Think Time : N.A Minimum Instruction Time : 0

Wrong Marks : 0

Eight persons, A, B, C, D, E, F, G and H, are sitting in a straight line. All of them are facing north. B sits third to the right of F. G sits at one of the ends. A sits to the immediate right of the one who sits at one of the ends. C sits to the immediate left of F, who sits to the immediate left of D. E sits second to the left of F. A sits to the immediate left of E. H sits between D and B. Who is sitting third to the left of D?

Options :

1. ✘ C

2. ✔ E

3. ✘ G

4. ✘ B

Question Number : 52 Question Id : 630680175450 Is Question Mandatory : No Calculator : None Response Time : N.A Think Time : N.A Minimum Instruction Time : 0

Wrong Marks : 0

आठ व्यक्ति A, B, C, D, E, F, G और H एक सीधी पंक्ति में बैठे हैं। वे सभी उत्तर की ओर अभिमुख हैं। B, F के दाएं से तीसरे स्थान पर बैठा है। G किसी एक छोर पर बैठा है। A किसी एक छोर पर बैठे व्यक्ति के ठीक दाएं बैठा है। C, F के ठीक बाएं बैठा है, जो D के ठीक बाएं बैठा है। E, F के बाएं से दूसरे स्थान पर बैठा है। A, E के ठीक बाएं बैठा है। H, D और B के बीच में बैठा है। D के बाएं से तीसरे स्थान पर कौन बैठा है?

Options :

1. ✘ C

2. ✓ E

3. ✗ G

4. ✗ B

Question Number : 53 Question Id : 630680175451 Is Question Mandatory : No Calculator : None Response Time : N.A Think Time : N.A Minimum Instruction Time : 0

Wrong Marks : 0

A class has 91 enrolled students. After the first semester examination, Sonam ranked 21st from the top. Sonam's friend, Tareeta, ranked 16th from the bottom. How many students have ranks between them?

Options :

1. ✗ 53

2. ✓ 54

3. ✗ 56

4. ✗ 58

Question Number : 53 Question Id : 630680175451 Is Question Mandatory : No Calculator : None Response Time : N.A Think Time : N.A Minimum Instruction Time : 0

Wrong Marks : 0

एक कक्षा में 91 नामांकित विद्यार्थी हैं। पहले सेमेस्टर की परीक्षा के बाद सोनम शीर्ष से 21वें स्थान पर रही। सोनम की दोस्त तारीता नीचे से 16वें स्थान पर है। उनके बीच कितने विद्यार्थियों का स्थान (रैंक) है?

Options :

1. ✗ 53

2. ✓ 54

3. ✗ 56

4. ✗ 58

Question Number : 54 Question Id : 630680175452 Is Question Mandatory : No Calculator : None Response Time : N.A Think Time : N.A Minimum Instruction Time : 0

Wrong Marks : 0

Read the given statements and conclusions carefully. Assuming that the information given in the statements is true, even if it appears to be at variance with commonly known facts, decide which of the given conclusions logically follow(s) from the statements.

Statements:

- I. All computers are monitors.
- II. All monitors are keyboards.

Conclusions:

- I. Some keyboards are computers.
- II. Some keyboards are monitors.

Options :

1. ✖ Only conclusion I follows
2. ✖ Only conclusion II follows
3. ✖ Neither conclusion I nor II follows
4. ✔ Both conclusions I and II follow

Question Number : 54 Question Id : 630680175452 Is Question Mandatory : No Calculator : None Response Time : N.A Think Time : N.A Minimum Instruction Time : 0

Wrong Marks : 0

दिए गए कथनों और निष्कर्षों को ध्यानपूर्वक पढ़ें। यह मानते हुए कि कथनों में दी गई जानकारी सत्य है, भले ही यह सामान्य रूप से ज्ञात तथ्यों से भिन्न प्रतीत होती हो, तय करें कि दिए गए निष्कर्षों में से कौन सा/से निष्कर्ष कथनों का तार्किक रूप से अनुसरण करता/करते हैं/हैं।

कथन:

- I. सभी कंप्यूटर, मॉनीटर हैं।
- II. सभी मॉनीटर, कीबोर्ड हैं।

निष्कर्ष:

- I. कुछ कीबोर्ड, कंप्यूटर हैं।
- II. कुछ कीबोर्ड, मॉनीटर हैं।

Options :

1. ✖ केवल निष्कर्ष I अनुसरण करता है
2. ✖ केवल निष्कर्ष II अनुसरण करता है
3. ✖ न तो निष्कर्ष I न ही II अनुसरण करता है
4. ✔ दोनों निष्कर्ष I और II अनुसरण करते हैं

Question Number : 55 Question Id : 630680175453 Is Question Mandatory : No Calculator : None Response Time : N.A Think Time : N.A Minimum Instruction Time : 0

Wrong Marks : 0

Noorie is older than Reena. Savita is not younger than Zehra. Fatima is younger than Tamanna. Tamanna is younger than Noorie. Reena is not younger than Tamanna. Fatima and Zehra are twin sisters.

Select the correct option that could be drawn from the given information.

Options :

1. ✘ Tamanna is younger than Savita.
2. ✘ Noorie is older than Savita.
3. ✘ Reena is older than Savita.
4. ✔ Fatima is younger than Noorie.

Question Number : 55 Question Id : 630680175453 Is Question Mandatory : No Calculator : None Response Time : N.A Think Time : N.A Minimum Instruction Time : 0

Wrong Marks : 0

नूरी, रीना से बड़ी है। सविता, ज़ेहरा से छोटी नहीं है। फातिमा, तमन्ना से छोटी हैं। तमन्ना, नूरी से छोटी है। रीना, तमन्ना से छोटी नहीं है। फातिमा और ज़ेहरा जुड़वां बहनें हैं।

सही विकल्प का चयन करें, जो दी गई जानकारी से निकाला जा सकता है।

Options :

1. ✘ तमन्ना, सविता से छोटी है।
2. ✘ नूरी, सविता से बड़ी है।
3. ✘ रीना, सविता से बड़ी है।
4. ✔ फातिमा, नूरी से छोटी है।

Question Number : 56 Question Id : 630680175454 Is Question Mandatory : No Calculator : None Response Time : N.A Think Time : N.A Minimum Instruction Time : 0

Wrong Marks : 0

Select the option that can replace the question marks (?) in the following series.

C, ?, F, 169, ?, 225, N, 289, S, 361

Options :

1. ✘ 127, L
2. ✘ 170, L
3. ✔ 121, K
4. ✘ 131, K

Question Number : 56 Question Id : 630680175454 Is Question Mandatory : No Calculator : None Response Time : N.A Think Time : N.A Minimum Instruction Time : 0

Wrong Marks : 0

उस विकल्प का चयन करें, जो निम्नलिखित श्रृंखला में प्रश्नवाचक चिह्न (?) को प्रतिस्थापित कर सकता है।

C, ? , F, 169, ?, 225, N, 289, S, 361

Options :

1. ✘ 127, L
2. ✘ 170, L
3. ✔ 121, K
4. ✘ 131, K

Question Number : 57 Question Id : 630680175455 Is Question Mandatory : No Calculator : None Response Time : N.A Think Time : N.A Minimum Instruction Time : 0

Wrong Marks : 0

Select the combination of letters that when sequentially placed in the blanks of the given series will form a logical sequence.

__ CBAA __ CBAACA __ BAACACC __ AC

Options :

1. ✘ ACCACBCBA
2. ✘ ACBACCCBA
3. ✘ ABCACCCBA
4. ✔ ACCACCCBA

Question Number : 57 Question Id : 630680175455 Is Question Mandatory : No Calculator : None Response Time : N.A Think Time : N.A Minimum Instruction Time : 0

Wrong Marks : 0

अक्षरों के उस संयोजन का चयन करें, जो दी गई श्रृंखला के रिक्त स्थान में क्रमिक रूप से रखे जाने पर एक तार्किक अनुक्रम का निर्माण करेगा।

__ CBAA __ CBAACA __ BAACACC __ AC

Options :

1. ✘ ACCACBCBA
2. ✘ ACBACCCBA
3. ✘ ABCACCCBA
4. ✔ ACCACCCBA

Question Number : 58 Question Id : 630680175456 Is Question Mandatory : No Calculator : None Response Time : N.A Think Time : N.A Minimum Instruction Time : 0

Wrong Marks : 0

Consider the following 4-digit numbers. If the first and fourth digits of each number are interchanged and then the resulting new numbers are arranged in the ascending order, which number will come in the middle?

7354, 7364, 7456, 7264, 5346, 8456, 6456

Options :

1. ✘ 7264
2. ✔ 5346
3. ✘ 6456
4. ✘ 7354

Question Number : 58 Question Id : 630680175456 Is Question Mandatory : No Calculator : None Response Time : N.A Think Time : N.A Minimum Instruction Time : 0

Wrong Marks : 0

निम्नलिखित 4-अंकीय संख्याओं पर विचार कीजिए। यदि प्रत्येक संख्या के पहले और चौथे अंक को आपस में बदल दिया जाए और फिर परिणामी नई संख्याओं को आरोही क्रम में व्यवस्थित किया जाए, तो बीच में कौन सी संख्या आएगी?

7354, 7364, 7456, 7264, 5346, 8456, 6456

Options :

1. ✘ 7264
2. ✔ 5346
3. ✘ 6456
4. ✘ 7354

Question Number : 59 Question Id : 630680175457 Is Question Mandatory : No Calculator : None Response Time : N.A Think Time : N.A Minimum Instruction Time : 0

Wrong Marks : 0

In a code language, 'BRUSH' is written as 'USRHB', and 'PAINT' is written as 'TPNIA'. How will 'COLOUR' be written in that language?

Options :

1. ✘ ROUOLC
2. ✔ UROOLC
3. ✘ UROLOC
4. ✘ UROOCL

Question Number : 59 Question Id : 630680175457 Is Question Mandatory : No Calculator : None Response Time : N.A Think Time : N.A Minimum Instruction Time : 0

Wrong Marks : 0

किसी कूट भाषा में, 'BRUSH' को 'USRHB' और 'PAINT' को 'TPNIA' लिखा जाता है। तो उस भाषा में 'COLOUR' कैसे लिखा जाएगा?

Options :

1. ✖ ROUOLC
2. ✔ UROOLC
3. ✖ UROLOC
4. ✖ UROOCL

Question Number : 60 Question Id : 630680175458 Is Question Mandatory : No Calculator : None Response Time : N.A Think Time : N.A Minimum Instruction Time : 0

Wrong Marks : 0

In a code language, the alphabetic letters are coded in the following manner:

1. All the consonants are coded with the next consonants in the English alphabet.
2. All the vowels are coded with the previous vowels in the English alphabet

However, if

- a. A consonant appears between two vowels, it will be coded with the next letter in the English alphabet.
- b. A consonant appears after a vowel but before a consonant, it will be coded with the previous letter in the English alphabet.

How will 'INVERTER' be coded in this language?

Options :

1. ✔ EMWAQVAS
2. ✖ EMWAQUAS
3. ✖ EMWAQVIS
4. ✖ EPWAQVAS

Question Number : 60 Question Id : 630680175458 Is Question Mandatory : No Calculator : None Response Time : N.A Think Time : N.A Minimum Instruction Time : 0

Wrong Marks : 0

किसी कूट भाषा में, वर्णमाला के अक्षरों को निम्नलिखित तरीके से कूटबद्ध किया जाता है:

1. सभी व्यंजनों को अंग्रेजी वर्णमाला में अगले व्यंजन के साथ कूटबद्ध किया गया है।
2. सभी स्वरों को अंग्रेजी वर्णमाला में पिछले स्वरों के साथ कूटबद्ध किया गया है।

हालांकि, यदि

- a. दो स्वरों के बीच एक व्यंजन आता है, इसे अंग्रेजी वर्णमाला के अगले अक्षर से कूटबद्ध किया जाएगा।
- b. एक स्वर के बाद, लेकिन एक व्यंजन से पहले एक व्यंजन आता है, इसे अंग्रेजी वर्णमाला में पिछले अक्षर के साथ कूटबद्ध किया जाएगा।

इस भाषा में 'INVERTER' को किस प्रकार कूटबद्ध किया जाएगा?

Options :

1. ✓ EMWAQVAS
2. ✗ EMWAQUAS
3. ✗ EMWAQVIS
4. ✗ EPWAQVAS

Question Number : 61 Question Id : 630680175459 Is Question Mandatory : No Calculator : None Response Time : N.A Think Time : N.A Minimum Instruction Time : 0

Wrong Marks : 0

If,

'A + B' means 'A is the mother of B',

'A - B' means 'A is the sister of B',

'A × B' means 'A is the brother of B', and

'A ÷ B' means 'A is the daughter of B',

then how is K related to H in the following expression?

$$L + K \times T \div M \times G - H$$

Options :

1. ✗ Paternal grandson
2. ✗ Brother
3. ✓ Brother's son
4. ✗ Father's brother

Question Number : 61 Question Id : 630680175459 Is Question Mandatory : No Calculator : None Response Time : N.A Think Time : N.A Minimum Instruction Time : 0

Wrong Marks : 0

यदि,

'A + B' का अर्थ है कि 'A, B की माता है',

'A - B' का अर्थ है कि 'A, B की बहन है',

'A × B' का अर्थ है कि 'A, B का भाई है', और

'A ÷ B' का अर्थ है कि 'A, B की पुत्री है',

तो निम्न व्यंजक में K, H से किस प्रकार संबंधित है?

$$L + K \times T \div M \times G - H$$

Options :

1. ✗ पोत्र
2. ✗ भाई

3. ✓ भतीजा

4. ✗ चाचा

Question Number : 62 Question Id : 630680175460 Is Question Mandatory : No Calculator : None Response Time : N.A Think Time : N.A Minimum Instruction Time : 0

Wrong Marks : 0

Four letter-clusters have been given, out of which three are alike in some manner and one is different. Select the one that is different.

Options :

1. ✗ BFHL

2. ✗ OSUY

3. ✓ AEJP

4. ✗ JNPT

Question Number : 62 Question Id : 630680175460 Is Question Mandatory : No Calculator : None Response Time : N.A Think Time : N.A Minimum Instruction Time : 0

Wrong Marks : 0

चार अक्षर-समूह दिए गए हैं, जिनमें से तीन किसी प्रकार से एक समान हैं और एक असंगत है। असंगत अक्षर-समूह चुनें।

Options :

1. ✗ BFHL

2. ✗ OSUY

3. ✓ AEJP

4. ✗ JNPT

Question Number : 63 Question Id : 630680175461 Is Question Mandatory : No Calculator : None Response Time : N.A Think Time : N.A Minimum Instruction Time : 0

Wrong Marks : 0

Consider the given statements and decide which of the given assumptions is/are implicit in the statements.

Statements:

1. All the roads of the city are in a very bad shape.
2. The number of road accidents in the city have increased in the last three months.

Assumptions:

- I. Accidents happen only due to bad road conditions.
- II. The condition of the roads is one of the major causes of road accidents.

Options :

1. ✗ Only assumption I is implicit

2. ✓ Only assumption II is implicit
3. ✗ Both assumptions I and II are implicit
4. ✗ Neither assumption I nor II is implicit

Question Number : 63 Question Id : 630680175461 Is Question Mandatory : No Calculator : None Response Time : N.A Think Time : N.A Minimum Instruction Time : 0

Wrong Marks : 0

दिए गए कथनों पर विचार करें और तय करें कि दी गई धारणाओं में से कौन सी कथन में अंतर्निहित है/हैं।

कथन:

1. शहर की सभी सड़कों की हालत बहुत खराब है।
2. पिछले तीन माह में शहर में सड़क हादसों की संख्या में वृद्धि हुई है।

धारणा:

- I. दुर्घटनाएं केवल खराब सड़क की स्थिति के कारण होती हैं।
- II. सड़कों की हालत सड़क दुर्घटनाओं के प्रमुख कारणों में से एक है।

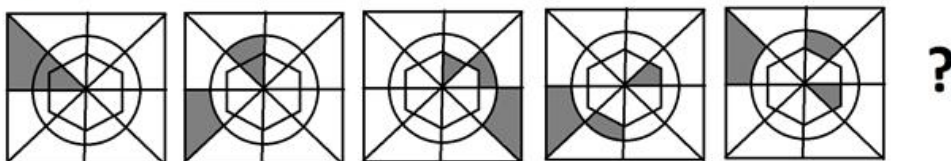
Options :

1. ✗ केवल धारणा I अंतर्निहित है
2. ✓ केवल धारणा II अंतर्निहित है
3. ✗ दोनों धारणाएं I और II अंतर्निहित हैं
4. ✗ न तो धारणा I न ही II अंतर्निहित है

Question Number : 64 Question Id : 630680175462 Is Question Mandatory : No Calculator : None Response Time : N.A Think Time : N.A Minimum Instruction Time : 0

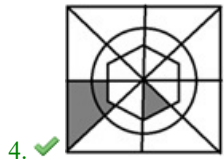
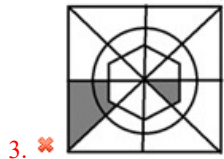
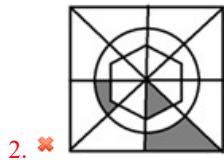
Wrong Marks : 0

Select the figure from among the given options that can replace the question mark (?) in the following series



Options :

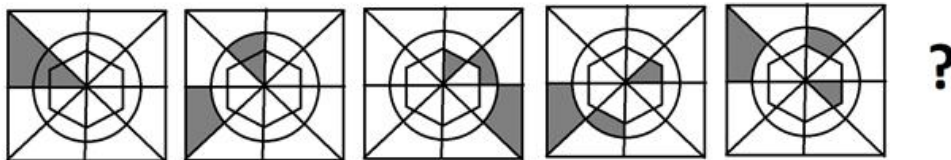
1. ✗



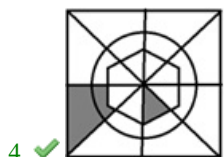
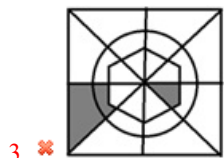
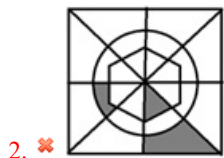
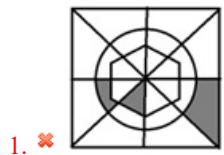
Question Number : 64 Question Id : 630680175462 Is Question Mandatory : No Calculator : None Response Time : N.A Think Time : N.A Minimum Instruction Time : 0

Wrong Marks : 0

दिए गए विकल्पों में से उस आकृति का चयन करें, जो निम्नलिखित श्रृंखला में प्रश्नवाचक चिह्न (?) को प्रतिस्थापित कर सकती है।




Options :



Question Number : 65 Question Id : 630680175463 Is Question Mandatory : No Calculator : None Response Time : N.A Think Time : N.A Minimum Instruction Time : 0

Wrong Marks : 0

Three different positions of the same dice are shown. How many dots will be there on the face opposite to the face with five dots?

**Options :**

1. ✖ 6
2. ✖ 4
3. ✔ 3
4. ✖ 2

Question Number : 65 Question Id : 630680175463 Is Question Mandatory : No Calculator : None Response Time : N.A Think Time : N.A Minimum Instruction Time : 0

Wrong Marks : 0

एक ही पासे की तीन अलग-अलग स्थितियां दिखाई गई हैं। पांच बिंदुओं वाले फलक के सामने वाले फलक पर कितने बिंदु होंगे?

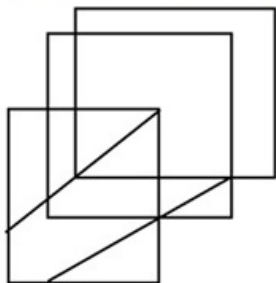
**Options :**

1. ✖ 6
2. ✖ 4
3. ✔ 3
4. ✖ 2

Question Number : 66 Question Id : 630680175464 Is Question Mandatory : No Calculator : None Response Time : N.A Think Time : N.A Minimum Instruction Time : 0

Wrong Marks : 0

How many triangles are there in the given figure?

**Options :**

1. ✖ 4

2. ✓ 7

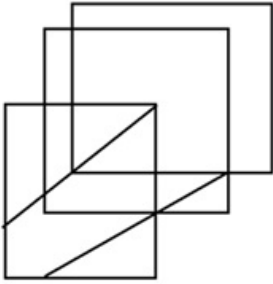
3. ✗ 3

4. ✗ 9

Question Number : 66 Question Id : 630680175464 Is Question Mandatory : No Calculator : None Response Time : N.A Think Time : N.A Minimum Instruction Time : 0

Wrong Marks : 0

दी गई आकृति में कितने त्रिभुज हैं?



Options :

1. ✗ 4

2. ✓ 7

3. ✗ 3

4. ✗ 9

Question Number : 67 Question Id : 630680175465 Is Question Mandatory : No Calculator : None Response Time : N.A Think Time : N.A Minimum Instruction Time : 0

Wrong Marks : 0

Select the number from among the given options that can replace the question mark (?) in the following series.

3, 3, 5, 2, 2, 4, 1, 1, 3, ?

Options :

1. ✓ 0

2. ✗ 2

3. ✗ 4

4. ✗ 7

Question Number : 67 Question Id : 630680175465 Is Question Mandatory : No Calculator : None Response Time : N.A Think Time : N.A Minimum Instruction Time : 0

Wrong Marks : 0

दिए गए विकल्पों में से उस संख्या का चयन करें, जो निम्नलिखित श्रृंखला में प्रश्नवाचक चिह्न (?) को प्रतिस्थापित कर सकती है।

3, 3, 5, 2, 2, 4, 1, 1, 3, ?

Options :

1. ✓ 0

2. ✗ 2

3. ✗ 4

4. ✗ 7

Question Number : 68 Question Id : 630680175466 Is Question Mandatory : No Calculator : None Response Time : N.A Think Time : N.A Minimum Instruction Time : 0

Wrong Marks : 0

What approximate value should come in place of '?' in the following equation?

$$1.001 \times 0.998 + 2.9 \times 0.999 + 2.99 = ?$$

Options :

1. ✗ 3

2. ✗ 5

3. ✓ 7

4. ✗ 9

Question Number : 68 Question Id : 630680175466 Is Question Mandatory : No Calculator : None Response Time : N.A Think Time : N.A Minimum Instruction Time : 0

Wrong Marks : 0

निम्नलिखित समीकरण में '?' के स्थान पर लगभग क्या मान आना चाहिए?

$$1.001 \times 0.998 + 2.9 \times 0.999 + 2.99 = ?$$

Options :

1. ✗ 3

2. ✗ 5

3. ✓ 7

4. ✗ 9

Question Number : 69 Question Id : 630680175467 Is Question Mandatory : No Calculator : None Response Time : N.A Think Time : N.A Minimum Instruction Time : 0

Wrong Marks : 0

If

'×' stands for addition,

'÷' stands for subtraction,

'+' stands for multiplication, and

'-' stands for division,

then what is the value of '?' in the following equation?

$$13 + 5 \div 21 - 7 \times 11 \div 9 + 2 = ?$$

Options :

1. ✖ 66

2. ✖ 65

3. ✔ 55

4. ✖ 75

Question Number : 69 Question Id : 630680175467 Is Question Mandatory : No Calculator : None Response Time : N.A Think Time : N.A Minimum Instruction Time : 0

Wrong Marks : 0

यदि

'×' का अर्थ जोड़ना है,

'÷' का अर्थ घटाना है,

'+' का अर्थ गुणा करना है, और

'-' का अर्थ भाग देना है

तो निम्नलिखित समीकरण में '?' का मान क्या है?

$$13 + 5 \div 21 - 7 \times 11 \div 9 + 2 = ?$$

Options :

1. ✖ 66

2. ✖ 65

3. ✔ 55

4. ✖ 75

Question Number : 70 Question Id : 630680175468 Is Question Mandatory : No Calculator : None Response Time : N.A Think Time : N.A Minimum Instruction Time : 0

Wrong Marks : 0

Which two numbers should be interchanged to make following equation correct?

$$24 \div 4 - 6 \times 2 + 9 \div 3 \times 5 = -2$$

Options :

1. ✖ 6 and 3

2. ✘ 9 and 3

3. ✔ 6 and 9

4. ✘ 9 and 5

Question Number : 70 Question Id : 630680175468 Is Question Mandatory : No Calculator : None Response Time : N.A Think Time : N.A Minimum Instruction Time : 0

Wrong Marks : 0

निम्नलिखित समीकरण को सही करने के लिए किन दो संख्याओं को आपस में बदलना चाहिए?

$$24 \div 4 - 6 \times 2 + 9 \div 3 \times 5 = -2$$

Options :

1. ✘ 6 और 3

2. ✘ 9 और 3

3. ✔ 6 और 9

4. ✘ 9 और 5

Enable Mark as Answered Mark for Review and Clear Response : Yes
 Maximum Instruction Time : 0
 Is Section Default? : null

Question Number : 71 Question Id : 630680175469 Is Question Mandatory : No Calculator : None Response Time : N.A Think Time : N.A Minimum Instruction Time : 0

Wrong Marks : 0

The first fully automatic calculating machine designed by Howard Aiken was:

Options :

1. ✔ Mark I

2. ✘ UNIVAC I

3. ✘ ENIAC

4. ✘ EDVAC

Question Number : 71 Question Id : 630680175469 Is Question Mandatory : No Calculator : None Response Time : N.A Think Time : N.A Minimum Instruction Time : 0

Wrong Marks : 0

हॉवर्ड ऐकेन (Howard Aiken) द्वारा डिज़ाइन की गई पहली पूर्ण स्वचालित गणना मशीन _____ थी।

Options :

1. ✔ Mark I

2. ✘ UNIVAC I

3. ✘ ENIAC

4. ✘ EDVAC

Question Number : 72 Question Id : 630680175470 Is Question Mandatory : No Calculator : None Response Time : N.A Think Time : N.A Minimum Instruction Time : 0

Wrong Marks : 0

Which of the following is used to refer to the length of registers in a computer system?

Options :

1. ✘ Register size
2. ✔ Word size
3. ✘ Character size
4. ✘ Sentence size

Question Number : 72 Question Id : 630680175470 Is Question Mandatory : No Calculator : None Response Time : N.A Think Time : N.A Minimum Instruction Time : 0

Wrong Marks : 0

कंप्यूटर सिस्टम में रजिस्ट्रों की लंबाई को संदर्भित करने के लिए निम्नलिखित में से किसका उपयोग किया जाता है?

Options :

1. ✘ रजिस्टर साइज़
2. ✔ वर्ड साइज़
3. ✘ कैरेक्टर साइज़
4. ✘ सेंटेंस साइज़

Question Number : 73 Question Id : 630680175471 Is Question Mandatory : No Calculator : None Response Time : N.A Think Time : N.A Minimum Instruction Time : 0

Wrong Marks : 0

With respect to computer hardware, select the INCORRECT option.

Options :

1. ✔ Viruses can infect it.
2. ✘ When damaged, it can be replaced with a new component.
3. ✘ It will physically wear out over time.
4. ✘ It is developed using electronic and other materials.

Question Number : 73 Question Id : 630680175471 Is Question Mandatory : No Calculator : None Response Time : N.A Think Time : N.A Minimum Instruction Time : 0

Wrong Marks : 0

कंप्यूटर हार्डवेयर के संबंध में, विकल्प का चयन करें।

Options :

1. ✔ वायरस इसे इन्फेक्ट कर सकते हैं।
2. ✘ क्षतिग्रस्त होने पर, इसके स्थान पर एक नया कॉम्पोनेंट लगाया जा सकता है।
3. ✘ समय बीतने के साथ साथ यह भौतिक रूप से खराब हो जाएगा।
4. ✘ इसे इलेक्ट्रॉनिक और अन्य सामग्रियों का उपयोग करके विकसित किया गया है।

Question Number : 74 Question Id : 630680175472 Is Question Mandatory : No Calculator : None Response Time : N.A Think Time : N.A Minimum Instruction Time : 0

Wrong Marks : 0

Which of the following register holds a machine instruction that is currently being executed?

Options :

1. ✘ Accumulator
2. ✘ Program counter
3. ✘ Instruction counter
4. ✔ Instruction register

Question Number : 74 Question Id : 630680175472 Is Question Mandatory : No Calculator : None Response Time : N.A Think Time : N.A Minimum Instruction Time : 0

Wrong Marks : 0

निम्नलिखित में से कौन सा रजिस्टर एक मशीन निर्देश पर नियन्त्रण रखता है जिसे वर्तमान में निष्पादित किया जा रहा है?

Options :

1. ✘ एक्युमुलेटर
2. ✘ प्रोग्राम काउंटर

3. ✘ इंस्ट्रक्शन काउंटर
4. ✔ इंस्ट्रक्शन रजिस्टर

Question Number : 75 Question Id : 630680175473 Is Question Mandatory : No Calculator : None Response Time : N.A Think Time : N.A Minimum Instruction Time : 0

Wrong Marks : 0

The internal structure of ROM comprises two basic components, _____ and OR gates.

Options :

1. ✘ encoder
2. ✔ decoder
3. ✘ adder
4. ✘ counter

Question Number : 75 Question Id : 630680175473 Is Question Mandatory : No Calculator : None Response Time : N.A Think Time : N.A Minimum Instruction Time : 0

Wrong Marks : 0

ROM की आंतरिक संरचना में दो बेसिक कॉम्पोनेंट, _____ OR गेट्स होते हैं।

Options :

1. ✘ एनकोडर
2. ✔ डिकोडर
3. ✘ ऐडर
4. ✘ काउंटर

Question Number : 76 Question Id : 630680175474 Is Question Mandatory : No Calculator : None Response Time : N.A Think Time : N.A Minimum Instruction Time : 0

Wrong Marks : 0

In Word for Microsoft 365, _____ of Home tab is used to check for Spelling, Grammar, and Writing Suggestions.

Options :

1. ✘ Font
2. ✔ Editor
3. ✘ Paragraph
4. ✘ Clipboard

Question Number : 76 Question Id : 630680175474 Is Question Mandatory : No Calculator : None Response Time : N.A Think Time : N.A Minimum Instruction Time : 0

Wrong Marks : 0

माइक्रोसॉफ्ट 365 (Word for Microsoft 365) वर्ड में, होम टैब के _____ का उपयोग स्पेलिंग, ग्रामर और राइटिंग सजेसंस की जांच के लिए किया जाता है।

Options :

1. ✘ फॉन्ट
2. ✔ एडिटर
3. ✘ पैराग्राफ़
4. ✘ क्लिपबोर्ड

Question Number : 77 Question Id : 630680175475 Is Question Mandatory : No Calculator : None Response Time : N.A Think Time : N.A Minimum Instruction Time : 0

Wrong Marks : 0

Which of the following keyboard shortcuts in Word for Microsoft 365 is used to change the paragraph spacing to 1.5 line spacing?

Options :

1. ✘ Ctrl + 1
2. ✘ Ctrl + 2
3. ✘ Ctrl + 3
4. ✔ Ctrl + 5

Question Number : 77 Question Id : 630680175475 Is Question Mandatory : No Calculator : None Response Time : N.A Think Time : N.A Minimum Instruction Time : 0

Wrong Marks : 0

माइक्रोसॉफ्ट 365(Microsoft 365) वर्ड में निम्नलिखित में से किस की-बोर्ड शॉर्टकट का उपयोग पैराग्राफ स्पेसिंग को 1.5 लाइन स्पेसिंग में बदलने के लिए किया जाता है?

Options :

1. ✘ Ctrl + 1
2. ✘ Ctrl + 2
3. ✘ Ctrl + 3
4. ✔ Ctrl + 5

Question Number : 78 Question Id : 630680175476 Is Question Mandatory : No Calculator : None Response Time : N.A Think Time : N.A Minimum Instruction Time : 0

Wrong Marks : 0

Which of the following is a function in Excel for Microsoft 365?

Options :

1. ✔ SUM
2. ✘ ADD
3. ✘ FORMULA
4. ✘ RANGE

Question Number : 78 Question Id : 630680175476 Is Question Mandatory : No Calculator : None Response Time : N.A Think Time : N.A Minimum Instruction Time : 0

Wrong Marks : 0

एक्सेल में माइक्रोसॉफ्ट 365 (Microsoft 365) के लिए निम्नलिखित में से कौन सा एक फंक्शन है?

Options :

1. ✔ SUM
2. ✘ ADD
3. ✘ FORMULA
4. ✘ RANGE

Question Number : 79 Question Id : 630680175477 Is Question Mandatory : No Calculator : None Response Time : N.A Think Time : N.A Minimum Instruction Time : 0

Wrong Marks : 0

Select the odd one out with respect to the kinds of interactions in e-governance.

Options :

1. ✘ Government to Citizens
2. ✔ Government to ORS
3. ✘ Government to Employees
4. ✘ Government to Government

Question Number : 79 Question Id : 630680175477 Is Question Mandatory : No Calculator : None Response Time : N.A Think Time : N.A Minimum Instruction Time : 0

Wrong Marks : 0

ई-गवर्नेंस (e-governance) में इंटरैक्शन्स के प्रकारों के संबंध में असंगत का चयन करें।

Options :

1. ✘ सरकार से नागरिक
2. ✔ सरकार से ओआरएस (ORS)
3. ✘ सरकार से कर्मचारीगण
4. ✘ सरकार से सरकार

Question Number : 80 Question Id : 630680175478 Is Question Mandatory : No Calculator : None Response Time : N.A Think

Time : N.A Minimum Instruction Time : 0

Wrong Marks : 0

Unified Mobile Application for New-age Governance (UMANG) app is developed by _____ and _____ to drive Mobile Governance in India.

Options :

1. ✓ Ministry of Electronics and Information Technology, National e-Governance Division
2. ✗ National e-Government Division, Ministry of Science and Technology
3. ✗ Ministry of Science and Technology, National e-Governance Department
4. ✗ National e-Governance Department, Ministry of Science and Technology

Question Number : 80 Question Id : 630680175478 Is Question Mandatory : No Calculator : None Response Time : N.A Think Time : N.A Minimum Instruction Time : 0

Wrong Marks : 0

यूनिफाइड मोबाइल एप्लिकेशन फॉर न्यू-एज गवर्नेंस (UMANG) ऐप भारत में मोबाइल गवर्नेंस को चलाने के लिए _____ और _____ द्वारा विकसित किया गया है।

Options :

1. ✓ इलेक्ट्रॉनिक्स और सूचना प्रौद्योगिकी मंत्रालय, राष्ट्रीय ई-शासन प्रभाग
2. ✗ राष्ट्रीय ई-सरकार प्रभाग, विज्ञान और प्रौद्योगिकी मंत्रालय
3. ✗ विज्ञान और प्रौद्योगिकी मंत्रालय, राष्ट्रीय ई-शासन विभाग
4. ✗ राष्ट्रीय ई-शासन विभाग, विज्ञान और प्रौद्योगिकी मंत्रालय

Is this Group for Examiner? :

No

Examiner permission :

Cant View

Show Progress Bar? :

No

Enable Mark as Answered Mark for Review and Clear Response :

Yes

Maximum Instruction Time :

0

Is Section Default? :

null

Question Number : 81 Question Id : 630680175479 Is Question Mandatory : No Calculator : None Response Time : N.A Think Time : N.A Minimum Instruction Time : 0

Wrong Marks : 0

Physical education means:

Options :

1. ✗ physical training
2. ✗ games and sports
3. ✓ education through physical activities
4. ✗ education through mental activities

Question Number : 81 Question Id : 630680175479 Is Question Mandatory : No Calculator : None Response Time : N.A Think Time : N.A Minimum Instruction Time : 0

Wrong Marks : 0

शारीरिक शिक्षा का क्या अर्थ है?

Options :

1. ✗ शारीरिक प्रशिक्षण
2. ✗ क्रीडा और खेल
3. ✓ शारीरिक गतिविधियों के माध्यम से शिक्षा
4. ✗ मानसिक गतिविधियों के माध्यम से शिक्षा

Question Number : 82 Question Id : 630680175480 Is Question Mandatory : No Calculator : None Response Time : N.A Think Time : N.A Minimum Instruction Time : 0

Wrong Marks : 0

The Physical Development Objective involves:

Options :

1. ✓ organic fitness
2. ✗ mental alertness
3. ✗ socialisation
4. ✗ morals and ethics

Question Number : 82 Question Id : 630680175480 Is Question Mandatory : No Calculator : None Response Time : N.A Think Time : N.A Minimum Instruction Time : 0

Wrong Marks : 0

शारीरिक विकास उद्देश्य में क्या शामिल है?

Options :

1. ✓ जैविक स्वस्थता
2. ✗ मानसिक सतर्कता
3. ✗ समाजीकरण
4. ✗ नैतिकता और सदाचार

Question Number : 83 Question Id : 630680175481 Is Question Mandatory : No Calculator : None Response Time : N.A Think Time : N.A Minimum Instruction Time : 0

Wrong Marks : 0

The immediate focus of Physical Education is to achieve:

Options :

1. ✗ knowledge
2. ✗ intellect
3. ✗ scholarship
4. ✓ health

Question Number : 83 Question Id : 630680175481 Is Question Mandatory : No Calculator : None Response Time : N.A Think Time : N.A Minimum Instruction Time : 0

Wrong Marks : 0

शारीरिक शिक्षा का तत्कालीन फोकस क्या हासिल करना है?

Options :

1. ✗ ज्ञान
2. ✗ बुद्धि
3. ✗ छात्रवृत्ति
4. ✓ स्वास्थ्य

Question Number : 84 Question Id : 630680175482 Is Question Mandatory : No Calculator : None Response Time : N.A Think Time : N.A Minimum Instruction Time : 0

Wrong Marks : 0

In the total educational process, Physical Education is recognised as:

Options :

1. ✗ an additional part
2. ✗ a desirable part
3. ✓ an integral part
4. ✗ no part at all

Question Number : 84 Question Id : 630680175482 Is Question Mandatory : No Calculator : None Response Time : N.A Think Time : N.A Minimum Instruction Time : 0

Wrong Marks : 0

कुल शैक्षिक प्रक्रिया में, शारीरिक शिक्षा को किस रूप में मान्यता प्राप्त है?

Options :

1. ✗ एक अतिरिक्त भाग
2. ✗ एक वांछनीय भाग

3. ✓ एक अभिन्न भाग
4. ✘ कोई भी भाग नहीं

Question Number : 85 Question Id : 630680175483 Is Question Mandatory : No Calculator : None Response Time : N.A Think Time : N.A Minimum Instruction Time : 0

Wrong Marks : 0

By laying emphasis on the programme of Physical Education activities in schools, a country can produce:

Options :

1. ✓ healthy citizens
2. ✘ noble professionals
3. ✘ Nobel laureates
4. ✘ eminent politicians

Question Number : 85 Question Id : 630680175483 Is Question Mandatory : No Calculator : None Response Time : N.A Think Time : N.A Minimum Instruction Time : 0

Wrong Marks : 0

स्कूलों में शारीरिक शिक्षा गतिविधियों के कार्यक्रम पर बल देकर, एक देश किसका निर्माण कर सकता है?

Options :

1. ✓ स्वस्थ नागरिकों
2. ✘ कुलीन पेशेवरों
3. ✘ नोबेल विजेताओं
4. ✘ प्रख्यात राजनेताओं

Question Number : 86 Question Id : 630680175484 Is Question Mandatory : No Calculator : None Response Time : N.A Think Time : N.A Minimum Instruction Time : 0

Wrong Marks : 0

Who defined Physical Education as the “sum of those experiences which come to the individual through movements”?

Options :

1. ✘ Charles A Bucher
2. ✘ JB Nash
3. ✓ Delbert Oberteuffer
4. ✘ JF Williams

Question Number : 86 Question Id : 630680175484 Is Question Mandatory : No Calculator : None Response Time : N.A Think Time : N.A Minimum Instruction Time : 0

Wrong Marks : 0

किसने शारीरिक शिक्षा को "उन अनुभवों के योग जो व्यक्ति को गतिविधियों के माध्यम से प्राप्त होते हैं" के रूप में परिभाषित किया है?

Options :

1. ✘ चार्ल्स ए बुचर (Charles A Bucher)
2. ✘ जेबी नैश (JB Nash)
3. ✓ डेलबर्ट ओबेरेटेफ़र (Delbert Oberteuffer)
4. ✘ जेएफ विलियम्स (JF Williams)

Question Number : 87 Question Id : 630680175485 Is Question Mandatory : No Calculator : None Response Time : N.A Think Time : N.A Minimum Instruction Time : 0

Wrong Marks : 0

Development of neuromuscular coordination means:

Options :

1. ✘ attainment of self-control
2. ✘ development of social cooperation
3. ✘ gain in physical efficiency
4. ✓ development of psycho-motor skills

Question Number : 87 Question Id : 630680175485 Is Question Mandatory : No Calculator : None Response Time : N.A Think Time : N.A Minimum Instruction Time : 0

Wrong Marks : 0

तंत्रिकापेशीय समन्वय के विकास का क्या अर्थ है?

Options :

1. ✖ आत्म-नियंत्रण की प्राप्ति
2. ✖ सामाजिक सहयोग का विकास
3. ✖ शारीरिक दक्षता में लाभ
4. ✔ मनःप्रेरक कौशल का विकास

Question Number : 88 Question Id : 630680175486 Is Question Mandatory : No Calculator : None Response Time : N.A Think Time : N.A Minimum Instruction Time : 0

Wrong Marks : 0

The aims of Education and Physical Education are:

Options :

1. ✔ one and the same
2. ✖ related
3. ✖ partially related
4. ✖ unrelated

Question Number : 88 Question Id : 630680175486 Is Question Mandatory : No Calculator : None Response Time : N.A Think Time : N.A Minimum Instruction Time : 0

Wrong Marks : 0

शिक्षा और शारीरिक शिक्षा के उद्देश्य _____ होते हैं।

Options :

1. ✔ एक और समान
2. ✖ संबंधित
3. ✖ आंशिक रूप से संबंधित
4. ✖ असंबंधित

Question Number : 89 Question Id : 630680175487 Is Question Mandatory : No Calculator : None Response Time : N.A Think Time : N.A Minimum Instruction Time : 0

Wrong Marks : 0

The objectives of Physical Education denote steps which are:

Options :

1. ✖ remote and never achievable
2. ✖ remote but achievable
3. ✔ immediate and achievable
4. ✖ immediate but never achievable

Question Number : 89 Question Id : 630680175487 Is Question Mandatory : No Calculator : None Response Time : N.A Think Time : N.A Minimum Instruction Time : 0

Wrong Marks : 0

शारीरिक शिक्षा के उद्देश्य किस प्रकार के चरणों को निरूपित करते हैं?

Options :

1. ✖ जो दूरस्थ होते हैं और जिन्हें कभी प्राप्त नहीं किया जा सकता
2. ✖ जो दूरस्थ होते हैं लेकिन जिन्हें प्राप्त किया जा सकता है
3. ✔ जो तत्कालिक होते हैं और जिन्हें प्राप्त किया जा सकता है
4. ✖ जो तत्कालिक होते हैं लेकिन जिन्हें कभी प्राप्त नहीं किया जा सकता

Question Number : 90 Question Id : 630680175488 Is Question Mandatory : No Calculator : None Response Time : N.A Think Time : N.A Minimum Instruction Time : 0

Wrong Marks : 0

Participation in which of the following is a 'big muscle activity'?

Options :

1. ✘ Playing cards
2. ✔ Running in track
3. ✘ Playing chess
4. ✘ Playing carom

Question Number : 90 Question Id : 630680175488 Is Question Mandatory : No Calculator : None Response Time : N.A Think Time : N.A Minimum Instruction Time : 0

Wrong Marks : 0

निम्नलिखित में से किसमें भागीदारी करना एक 'बिग मसल ऐक्टिविटी' है?

Options :

1. ✘ ताश खेलना
2. ✔ ट्रैक में दौड़ना
3. ✘ शतरंज खेलना
4. ✘ कैरम खेलना

Question Number : 91 Question Id : 630680175489 Is Question Mandatory : No Calculator : None Response Time : N.A Think Time : N.A Minimum Instruction Time : 0

Wrong Marks : 0

A bicep is a:

Options :

1. ✔ skeletal muscle
2. ✘ smooth muscle
3. ✘ cardiac muscle
4. ✘ non-striated muscle

Question Number : 91 Question Id : 630680175489 Is Question Mandatory : No Calculator : None Response Time : N.A Think Time : N.A Minimum Instruction Time : 0

Wrong Marks : 0

द्विशिर पेशी (bicep) क्या है?

Options :

1. ✔ कंकाल पेशी
2. ✘ चिकनी पेशी
3. ✘ हृदय पेशी
4. ✘ अरेखित पेशी

Question Number : 92 Question Id : 630680175490 Is Question Mandatory : No Calculator : None Response Time : N.A Think Time : N.A Minimum Instruction Time : 0

Wrong Marks : 0

Lungs are a part of the _____ system.

Options :

1. ✘ digestive
2. ✘ muscular
3. ✔ respiratory
4. ✘ skeletal

Question Number : 92 Question Id : 630680175490 Is Question Mandatory : No Calculator : None Response Time : N.A Think Time : N.A Minimum Instruction Time : 0

Wrong Marks : 0

फेफड़े _____ तंत्र का एक हिस्सा हैं।

Options :

1. ✘ पाचक

2. ✘ पेशी
3. ✔ श्वसन
4. ✘ कंकाल

Question Number : 93 Question Id : 630680175491 Is Question Mandatory : No Calculator : None Response Time : N.A Think Time : N.A Minimum Instruction Time : 0

Wrong Marks : 0

The alimentary canal is a part of the _____ system.

Options :

1. ✘ circulatory
2. ✔ digestive
3. ✘ respiratory
4. ✘ muscular

Question Number : 93 Question Id : 630680175491 Is Question Mandatory : No Calculator : None Response Time : N.A Think Time : N.A Minimum Instruction Time : 0

Wrong Marks : 0

आहारनाल, _____ तंत्र का एक हिस्सा है।

Options :

1. ✘ परिसंचरण
2. ✔ पाचन
3. ✘ श्वसन
4. ✘ पेशी

Question Number : 94 Question Id : 630680175492 Is Question Mandatory : No Calculator : None Response Time : N.A Think Time : N.A Minimum Instruction Time : 0

Wrong Marks : 0

Within which of the following chambers does blood flow from the periphery to the heart?

Options :

1. ✔ Right atrium
2. ✘ Left atrium
3. ✘ Right ventricle
4. ✘ Left ventricle

Question Number : 94 Question Id : 630680175492 Is Question Mandatory : No Calculator : None Response Time : N.A Think Time : N.A Minimum Instruction Time : 0

Wrong Marks : 0

निम्नलिखित में से किस कक्ष (chamber) में रक्त, उपांत (periphery) से हृदय की ओर प्रवाहित होता है?

Options :

1. ✔ दायां अलिंद
2. ✘ बायां अलिंद
3. ✘ दायां निलय
4. ✘ बायां निलय

Question Number : 95 Question Id : 630680175493 Is Question Mandatory : No Calculator : None Response Time : N.A Think Time : N.A Minimum Instruction Time : 0

Wrong Marks : 0

Regular endurance running and adequate exercises result in decreased resting heart rate, which is called:

Options :

1. ✘ irregular heart rate
2. ✔ bradycardia
3. ✘ tachycardia

4. ✘ cardiac output

Question Number : 95 Question Id : 630680175493 Is Question Mandatory : No Calculator : None Response Time : N.A Think Time : N.A Minimum Instruction Time : 0

Wrong Marks : 0

नियमित एंज्योरेंस रनिंग और पर्याप्त व्यायाम के परिणामस्वरूप रेस्टिंग हार्ट रेट कम हो जाती है, इसे क्या कहा जाता है?

Options :

1. ✘ अनियमित हृदय गति (irregular heart rate)
2. ✔ हृदयन्दता (bradycardia)
3. ✘ हृदक्षिप्रता (tachycardia)
4. ✘ हृद निर्गम (cardiac output)

Question Number : 96 Question Id : 630680175494 Is Question Mandatory : No Calculator : None Response Time : N.A Think Time : N.A Minimum Instruction Time : 0

Wrong Marks : 0

White blood cells are referred to as:

Options :

1. ✘ platelets
2. ✘ plasmacytes
3. ✔ leucocytes
4. ✘ erythrocytes

Question Number : 96 Question Id : 630680175494 Is Question Mandatory : No Calculator : None Response Time : N.A Think Time : N.A Minimum Instruction Time : 0

Wrong Marks : 0

श्वेत रक्त कोशिकाओं को _____ कहा जाता है।

Options :

1. ✘ प्लेटलेट्स (platelets)
2. ✘ प्लाज्मासाइट्स (plasmacytes)
3. ✔ ल्यूकोसाइट्स (leucocytes)
4. ✘ एरिथ्रोसाइट्स (erythrocytes)

Question Number : 97 Question Id : 630680175495 Is Question Mandatory : No Calculator : None Response Time : N.A Think Time : N.A Minimum Instruction Time : 0

Wrong Marks : 0

In the respiratory system, actual exchange of gases with the blood takes place at the:

Options :

1. ✘ bronchi
2. ✘ bronchioles
3. ✔ alveoli
4. ✘ trachea

Question Number : 97 Question Id : 630680175495 Is Question Mandatory : No Calculator : None Response Time : N.A Think Time : N.A Minimum Instruction Time : 0

Wrong Marks : 0

श्वसन तंत्र में, रक्त के साथ गैसों का वास्तविक आदान-प्रदान कहाँ होता है?

Options :

1. ✘ ब्रॉन्काई (bronchi)
2. ✘ श्वसनिका (bronchioles)
3. ✔ वायुकोष्ठिका (alveoli)
4. ✘ श्वासनली (trachea)

Question Number : 98 Question Id : 630680175496 Is Question Mandatory : No Calculator : None Response Time : N.A Think Time : N.A Minimum Instruction Time : 0

Wrong Marks : 0

The volume of air inspired or expired in one minute is called:

Options :

1. ✘ tidal volume
2. ✘ respiratory rate
3. ✔ minute ventilation
4. ✘ second wind

Question Number : 98 Question Id : 630680175496 Is Question Mandatory : No Calculator : None Response Time : N.A Think Time : N.A Minimum Instruction Time : 0

Wrong Marks : 0

एक मिनट में प्रश्वसित या बहिःश्वसित वायु की मात्रा क्या कहलाती है?

Options :

1. ✘ श्वसन आयतन
2. ✘ श्वसन दर
3. ✔ अल्प संवातन
4. ✘ द्वितीय श्वास

Question Number : 99 Question Id : 630680175497 Is Question Mandatory : No Calculator : None Response Time : N.A Think Time : N.A Minimum Instruction Time : 0

Wrong Marks : 0

The hardest working muscle in the body is the:

Options :

1. ✘ masseter
2. ✘ tongue
3. ✘ soleus
4. ✔ heart

Question Number : 99 Question Id : 630680175497 Is Question Mandatory : No Calculator : None Response Time : N.A Think Time : N.A Minimum Instruction Time : 0

Wrong Marks : 0

शरीर में सबसे कठोर कार्यशील पेशी कौन सी है?

Options :

1. ✘ चर्वणिका (masseter)
2. ✘ जीभ (tongue)
3. ✘ सोलियस (soleus)
4. ✔ हृदय (heart)

Question Number : 100 Question Id : 630680175498 Is Question Mandatory : No Calculator : None Response Time : N.A Think Time : N.A Minimum Instruction Time : 0

Wrong Marks : 0

Muscular hypertrophy takes place due to long term:

Options :

1. ✘ endurance training
2. ✘ speed training
3. ✔ strength training
4. ✘ flexibility training

Question Number : 100 Question Id : 630680175498 Is Question Mandatory : No Calculator : None Response Time : N.A Think Time : N.A Minimum Instruction Time : 0

Wrong Marks : 0

पेशीय अतिवृद्धि, लंबी अवधि के _____ के कारण होती है।

Options :

1. ✘ सहनशक्ति प्रशिक्षण (endurance training)
2. ✘ तेज प्रशिक्षण (speed training)
3. ✔ शक्ति प्रशिक्षण (strength training)
4. ✘ नम्यता प्रशिक्षण (flexibility training)

Question Number : 101 Question Id : 630680175499 Is Question Mandatory : No Calculator : None Response Time : N.A Think Time : N.A Minimum Instruction Time : 0

Wrong Marks : 0

Which of the following fields studies human behaviour and mental processes?

Options :

1. ✘ Sociology
2. ✔ Psychology
3. ✘ Microbiology
4. ✘ Anthropology

Question Number : 101 Question Id : 630680175499 Is Question Mandatory : No Calculator : None Response Time : N.A Think Time : N.A Minimum Instruction Time : 0

Wrong Marks : 0

निम्नलिखित में से कौन सा क्षेत्र मानव व्यवहार और मानसिक प्रक्रियाओं का अध्ययन करता है?

Options :

1. ✘ समाजविज्ञान
2. ✔ मनोविज्ञान
3. ✘ सूक्ष्मजीव विज्ञान
4. ✘ मानव विज्ञान

Question Number : 102 Question Id : 630680175500 Is Question Mandatory : No Calculator : None Response Time : N.A Think Time : N.A Minimum Instruction Time : 0

Wrong Marks : 0

When various principles of psychology are applied to human behaviour related to exercise and sports, the field is called:

Options :

1. ✘ sports medicine
2. ✔ sports psychology
3. ✘ sports sociology
4. ✘ sports pedagogy

Question Number : 102 Question Id : 630680175500 Is Question Mandatory : No Calculator : None Response Time : N.A Think Time : N.A Minimum Instruction Time : 0

Wrong Marks : 0

जब मनोविज्ञान के विभिन्न सिद्धांतों को व्यायाम और खेल से संबंधित मानव व्यवहार पर लागू किया जाता है, तो क्षेत्र को क्या कहा जाता है?

Options :

1. ✘ खेल चिकित्सा
2. ✔ खेल मनोविज्ञान
3. ✘ खेल समाजविज्ञान
4. ✘ खेल शिक्षाविज्ञान

Question Number : 103 Question Id : 630680175501 Is Question Mandatory : No Calculator : None Response Time : N.A Think Time : N.A Minimum Instruction Time : 0

Wrong Marks : 0

The International Society of Sports Psychology (ISSP) was founded in the year:

Options :

1. ✘ 1960

2. ✓ 1965

3. ✗ 1967

4. ✗ 1969

Question Number : 103 Question Id : 630680175501 Is Question Mandatory : No Calculator : None Response Time : N.A Think Time : N.A Minimum Instruction Time : 0

Wrong Marks : 0

इंटरनेशनल सोसाइटी ऑफ स्पोर्ट्स साइकोलॉजी (ISSP) की स्थापना किस वर्ष में हुई थी?

Options :

1. ✗ 1960

2. ✓ 1965

3. ✗ 1967

4. ✗ 1969

Question Number : 104 Question Id : 630680175502 Is Question Mandatory : No Calculator : None Response Time : N.A Think Time : N.A Minimum Instruction Time : 0

Wrong Marks : 0

Which of the following is a positive psychological trait?

Options :

1. ✓ Motivation

2. ✗ Prejudice

3. ✗ Impatience

4. ✗ Stress

Question Number : 104 Question Id : 630680175502 Is Question Mandatory : No Calculator : None Response Time : N.A Think Time : N.A Minimum Instruction Time : 0

Wrong Marks : 0

निम्नलिखित में से कौन-सा एक सकारात्मक मनोवैज्ञानिक विशेषक है?

Options :

1. ✓ प्रेरणा (Motivation)

2. ✗ पक्षपात (Prejudice)

3. ✗ असहिष्णुता (Impatience)

4. ✗ तनाव (Stress)

Question Number : 105 Question Id : 630680175503 Is Question Mandatory : No Calculator : None Response Time : N.A Think Time : N.A Minimum Instruction Time : 0

Wrong Marks : 0

An athlete, who is highly motivated, is always:

Options :

1. ✗ a winner

2. ✗ a loser

3. ✓ self-confident

4. ✗ aggressive

Question Number : 105 Question Id : 630680175503 Is Question Mandatory : No Calculator : None Response Time : N.A Think Time : N.A Minimum Instruction Time : 0

Wrong Marks : 0

एक एथलीट, जो अत्यधिक प्रेरित रहता है, हमेशा _____ होता है।

Options :

1. ✗ एक विजेता

2. ✗ एक हारने वाला

3. ✓ आत्मविश्वासी

4. ✖ आक्रामक

Question Number : 106 Question Id : 630680175504 Is Question Mandatory : No Calculator : None Response Time : N.A Think Time : N.A Minimum Instruction Time : 0

Wrong Marks : 0

Which of the following is an example of intrinsic motivation?

Options :

1. ✖ Participation in sports for prizes and scholarship
2. ✔ Participation in sports for enjoyment and good feelings
3. ✖ Participation in sports for posting on social media
4. ✖ Participation in sports to earn money

Question Number : 106 Question Id : 630680175504 Is Question Mandatory : No Calculator : None Response Time : N.A Think Time : N.A Minimum Instruction Time : 0

Wrong Marks : 0

निम्नलिखित में से कौन सा विकल्प अंतर्भूत अभिप्रेरण का उदाहरण है?

Options :

1. ✖ पुरस्कार और छात्रवृत्ति के लिए खेलों में भाग लेना
2. ✔ आनंद और अच्छे अहसास के लिए खेलों में भाग लेना
3. ✖ सोशल मीडिया पर पोस्ट करने के लिए खेलों में भाग लेना
4. ✖ पैसे कमाने के लिए खेलों में भाग लेना

Question Number : 107 Question Id : 630680175505 Is Question Mandatory : No Calculator : None Response Time : N.A Think Time : N.A Minimum Instruction Time : 0

Wrong Marks : 0

The word 'psychology' is derived from the Greek terms 'psyche' and 'logos'. The literary meaning of 'psyche' is:

Options :

1. ✔ mind / soul
2. ✖ behaviour
3. ✖ memory
4. ✖ trait

Question Number : 107 Question Id : 630680175505 Is Question Mandatory : No Calculator : None Response Time : N.A Think Time : N.A Minimum Instruction Time : 0

Wrong Marks : 0

psychology' शब्द ग्रीक शब्द 'psyche' और 'logos' से लिया गया है। 'psyche' का साहित्यिक अर्थ क्या है?

Options :

1. ✔ मन/आत्मा
2. ✖ व्यवहार
3. ✖ स्मृति
4. ✖ विशेषक

Question Number : 108 Question Id : 630680175506 Is Question Mandatory : No Calculator : None Response Time : N.A Think Time : N.A Minimum Instruction Time : 0

Wrong Marks : 0

A good sport conduct involves:

Options :

1. ✖ making fun of teammates or the opponents regarding race, colour, size or skill
2. ✖ harsh and trash talking
3. ✔ congratulating a unique skill by opponents
4. ✖ blaming others for losses

Question Number : 108 Question Id : 630680175506 Is Question Mandatory : No Calculator : None Response Time : N.A Think

Time : N.A Minimum Instruction Time : 0

Wrong Marks : 0

एक अच्छे खेल आचरण में क्या शामिल हैं?

Options :

1. ✘ जाति, रंग, आकार या कौशल के संबंध में टीम के साथियों या विरोधियों का मजाक उड़ाना
2. ✘ कटु और तुच्छ बात करना
3. ✔ विरोधियों के किसी अद्वितीय कौशल पर बधाई देना
4. ✘ नुकसान के लिए दूसरों को दोष देना

Question Number : 109 Question Id : 630680175507 Is Question Mandatory : No Calculator : None Response Time : N.A Think Time : N.A Minimum Instruction Time : 0

Wrong Marks : 0

_____ is the most unethical influence in sports resulting in a harmful health hazard.

Options :

1. ✘ Bullying
2. ✘ Cheating
3. ✔ Doping
4. ✘ Victimising

Question Number : 109 Question Id : 630680175507 Is Question Mandatory : No Calculator : None Response Time : N.A Think Time : N.A Minimum Instruction Time : 0

Wrong Marks : 0

_____, खेलों में सबसे अनैतिक प्रभाव है जिसके परिणामस्वरूप हानिकारक स्वास्थ्य संकट होता है।

Options :

1. ✘ डराना धमकाना
2. ✘ बेईमानी करना
3. ✔ डोपिंग
4. ✘ अनुचित व्यवहार

Question Number : 110 Question Id : 630680175508 Is Question Mandatory : No Calculator : None Response Time : N.A Think Time : N.A Minimum Instruction Time : 0

Wrong Marks : 0

Physical fitness of a person is assessed by his/her:

Options :

1. ✘ emotional stability
2. ✘ social attachment
3. ✔ functional capacity
4. ✘ intellectual pursuit

Question Number : 110 Question Id : 630680175508 Is Question Mandatory : No Calculator : None Response Time : N.A Think Time : N.A Minimum Instruction Time : 0

Wrong Marks : 0

किसी व्यक्ति की शारीरिक स्वस्थता का आकलन उसके/उसकी _____ द्वारा किया जाता है।

Options :

1. ✘ भावनात्मक स्थिरता (emotional stability)
2. ✘ सामाजिक लगाव (social attachment)
3. ✔ कार्यात्मक क्षमता (functional capacity)
4. ✘ बौद्धिक अनुसरण (intellectual pursuit)

Question Number : 111 Question Id : 630680175509 Is Question Mandatory : No Calculator : None Response Time : N.A Think Time : N.A Minimum Instruction Time : 0

Wrong Marks : 0

Wellness is an approach towards life which is:

Options :

1. ✘ spiritual
2. ✘ physical
3. ✘ social
4. ✔ multidimensional

Question Number : 111 Question Id : 630680175509 Is Question Mandatory : No Calculator : None Response Time : N.A Think Time : N.A Minimum Instruction Time : 0

Wrong Marks : 0

प्रसन्नचित्तता, जीवन के प्रति एक दृष्टिकोण है जो _____ है।

Options :

1. ✘ आध्यात्मिक
2. ✘ भौतिक
3. ✘ सामाजिक
4. ✔ बहुआयामी

Question Number : 112 Question Id : 630680175510 Is Question Mandatory : No Calculator : None Response Time : N.A Think Time : N.A Minimum Instruction Time : 0

Wrong Marks : 0

Health-related physical fitness components involve all of the following EXCEPT:

Options :

1. ✘ body composition
2. ✘ muscular strength
3. ✘ muscular endurance
4. ✔ power

Question Number : 112 Question Id : 630680175510 Is Question Mandatory : No Calculator : None Response Time : N.A Think Time : N.A Minimum Instruction Time : 0

Wrong Marks : 0

निम्नलिखित में से किसे छोड़कर शेष सभी स्वास्थ्य संबंधी शारीरिक स्वस्थता घटकों में शामिल हैं?

Options :

1. ✘ शारीरिक संरचना
2. ✘ पेशीय बल
3. ✘ पेशीय सह्यता
4. ✔ शक्ति

Question Number : 113 Question Id : 630680175511 Is Question Mandatory : No Calculator : None Response Time : N.A Think Time : N.A Minimum Instruction Time : 0

Wrong Marks : 0

Which of the following is a motor skill related physical fitness component?

Options :

1. ✘ Cardio-respiratory endurance
2. ✘ Muscular strength
3. ✔ Reaction time
4. ✘ Flexibility

Question Number : 113 Question Id : 630680175511 Is Question Mandatory : No Calculator : None Response Time : N.A Think Time : N.A Minimum Instruction Time : 0

Wrong Marks : 0

निम्नलिखित में से कौन सा विकल्प पेशीय कौशल से संबंधित शारीरिक स्वस्थता घटक है?

Options :

1. ✘ हृदय क्षसन सह्यता
2. ✘ पेशीय बल

3. ✓ प्रतिक्रिया समय
4. ✗ लचीलापन

Question Number : 114 Question Id : 630680175512 Is Question Mandatory : No Calculator : None Response Time : N.A Think Time : N.A Minimum Instruction Time : 0

Wrong Marks : 0

Which of the following is a means of developing aerobic fitness?

Options :

1. ✓ 30-minute brisk walk
2. ✗ Standing broad jump
3. ✗ Medicine ball toss
4. ✗ Squat jump

Question Number : 114 Question Id : 630680175512 Is Question Mandatory : No Calculator : None Response Time : N.A Think Time : N.A Minimum Instruction Time : 0

Wrong Marks : 0

निम्नलिखित में से कौन सा विकल्प एरोबिक स्वस्थता विकसित करने का साधन है?

Options :

1. ✓ 30 मिनट की तेज चाल
2. ✗ स्टैंडिंग ब्रॉड जंप
3. ✗ मेडिसिन बॉल टॉस
4. ✗ स्क्वैट जंप

Question Number : 115 Question Id : 630680175513 Is Question Mandatory : No Calculator : None Response Time : N.A Think Time : N.A Minimum Instruction Time : 0

Wrong Marks : 0

The key to developing wellness is:

Options :

1. ✗ eating protein diet
2. ✗ performing high intensity exercises
3. ✗ consuming alcohol
4. ✓ living a positive lifestyle

Question Number : 115 Question Id : 630680175513 Is Question Mandatory : No Calculator : None Response Time : N.A Think Time : N.A Minimum Instruction Time : 0

Wrong Marks : 0

प्रसन्नचित्तता (wellness) विकसित करने की कुंजी क्या है?

Options :

1. ✗ प्रोटीन वाले आहार लेना
2. ✗ उच्च तीव्रता वाले व्यायाम करना
3. ✗ शराब का सेवन करना
4. ✓ सकारात्मक जीवन शैली जीना

Question Number : 116 Question Id : 630680175514 Is Question Mandatory : No Calculator : None Response Time : N.A Think Time : N.A Minimum Instruction Time : 0

Wrong Marks : 0

The ability of the heart, lungs and blood vessels to work for a prolonged period of time is called:

Options :

1. ✗ physical fitness
2. ✗ muscular fitness
3. ✓ aerobic fitness
4. ✗ body composition

Question Number : 116 Question Id : 630680175514 Is Question Mandatory : No Calculator : None Response Time : N.A Think Time : N.A Minimum Instruction Time : 0

Wrong Marks : 0

हृदय, फेफड़े और रक्त वाहिकाओं की लंबे समय तक कार्य करने की क्षमता क्या कहलाती है?

Options :

1. ✖ शारीरिक स्वस्थता
2. ✖ पेशीय स्वस्थता
3. ✔ एरोबिक स्वस्थता
4. ✖ शारीरिक संरचना

Question Number : 117 Question Id : 630680175515 Is Question Mandatory : No Calculator : None Response Time : N.A Think Time : N.A Minimum Instruction Time : 0

Wrong Marks : 0

All of the following are the basic principles of developing physical fitness, EXCEPT:

Options :

1. ✖ The F.I.I.T. Principle
2. ✔ Principle of Relaxation and Sleep
3. ✖ Principle of Specificity
4. ✖ Principle of Overload

Question Number : 117 Question Id : 630680175515 Is Question Mandatory : No Calculator : None Response Time : N.A Think Time : N.A Minimum Instruction Time : 0

Wrong Marks : 0

निम्नलिखित में से किसे छोड़कर शेष सभी शारीरिक स्वस्थता के विकसित करने के मूल सिद्धांत हैं?

Options :

1. ✖ F.I.I.T. सिद्धांत (The F.I.I.T. Principle)
2. ✔ आराम और नींद का सिद्धांत (Principle of Relaxation and Sleep)
3. ✖ विशिष्टता का सिद्धांत (Principle of Specificity)
4. ✖ अतिभार का सिद्धांत (Principle of Overload)

Question Number : 118 Question Id : 630680175516 Is Question Mandatory : No Calculator : None Response Time : N.A Think Time : N.A Minimum Instruction Time : 0

Wrong Marks : 0

Which of the following is an additional benefit of circuit training in comparison to cardio workout?

Options :

1. ✖ Development of cardiovascular fitness
2. ✖ Development of muscular strength
3. ✖ Development of muscular endurance
4. ✔ Development of social interaction during workout

Question Number : 118 Question Id : 630680175516 Is Question Mandatory : No Calculator : None Response Time : N.A Think Time : N.A Minimum Instruction Time : 0

Wrong Marks : 0

निम्नलिखित में से कौन सा विकल्प कार्डियो वर्कआउट की तुलना में सर्किट ट्रेनिंग का अतिरिक्त लाभ है?

Options :

1. ✖ हृदय वाहिका स्वस्थता का विकास
2. ✖ पेशीय बल का विकास
3. ✖ पेशीय सह्यता का विकास
4. ✔ वर्कआउट के दौरान सामाजिक संपर्क का विकास

Question Number : 119 Question Id : 630680175517 Is Question Mandatory : No Calculator : None Response Time : N.A Think Time : N.A Minimum Instruction Time : 0

Wrong Marks : 0

Sports training aims to:

Options :

1. ✓ develop all abilities to achieve best possible performance
2. ✗ develop psychological fitness
3. ✗ develop sports techniques and tactics
4. ✗ develop physical fitness

Question Number : 119 Question Id : 630680175517 Is Question Mandatory : No Calculator : None Response Time : N.A Think Time : N.A Minimum Instruction Time : 0

Wrong Marks : 0

खेल प्रशिक्षण का उद्देश्य क्या है?

Options :

1. ✓ सर्वोत्तम संभव प्रदर्शन प्राप्त करने के लिए सभी क्षमताओं का विकास करना
2. ✗ मनोवैज्ञानिक स्वस्थता विकसित करना
3. ✗ खेल तकनीक और रणनीति विकसित करना
4. ✗ शारीरिक स्वस्थता विकसित करना

Question Number : 120 Question Id : 630680175518 Is Question Mandatory : No Calculator : None Response Time : N.A Think Time : N.A Minimum Instruction Time : 0

Wrong Marks : 0

In isometric exercises:

Options :

1. ✗ muscle length shortens
2. ✗ muscle length lengthens
3. ✗ muscle mass thickens
4. ✓ muscle length remains static

Question Number : 120 Question Id : 630680175518 Is Question Mandatory : No Calculator : None Response Time : N.A Think Time : N.A Minimum Instruction Time : 0

Wrong Marks : 0

सममितीय व्यायाम में क्या होता है?

Options :

1. ✗ मांसपेशियों की लंबाई कम हो जाती है
2. ✗ मांसपेशियों की लंबाई बढ़ जाती है
3. ✗ मांसपेशियों का द्रव्यमान मोटा हो जाता है
4. ✓ मांसपेशियों की लंबाई स्थिर रहती है

Question Number : 121 Question Id : 630680175519 Is Question Mandatory : No Calculator : None Response Time : N.A Think Time : N.A Minimum Instruction Time : 0

Wrong Marks : 0

Interval training is used best for developing:

Options :

1. ✗ sport-specific strength
2. ✓ sport-specific endurance
3. ✗ sport-specific power
4. ✗ sport-specific flexibility

Question Number : 121 Question Id : 630680175519 Is Question Mandatory : No Calculator : None Response Time : N.A Think Time : N.A Minimum Instruction Time : 0

Wrong Marks : 0

किसके विकास के लिए अंतराल प्रशिक्षण का सबसे अच्छा उपयोग किया जाता है?

Options :

1. ✘ खेल-विशिष्ट बल
2. ✔ खेल-विशिष्ट सह्यता
3. ✘ खेल-विशिष्ट शक्ति
4. ✘ खेल-विशिष्ट लचीलापन

Question Number : 122 Question Id : 630680175520 Is Question Mandatory : No Calculator : None Response Time : N.A Think Time : N.A Minimum Instruction Time : 0

Wrong Marks : 0

In continuous training method to develop endurance, intensity of exercise should be:

Options :

1. ✔ low
2. ✘ moderate
3. ✘ high
4. ✘ very high

Question Number : 122 Question Id : 630680175520 Is Question Mandatory : No Calculator : None Response Time : N.A Think Time : N.A Minimum Instruction Time : 0

Wrong Marks : 0

सह्यता विकसित करने के लिए निरंतर प्रशिक्षण पद्धति में, व्यायाम की तीव्रता _____ होनी चाहिए।

Options :

1. ✔ निम्न
2. ✘ मध्यम
3. ✘ उच्च
4. ✘ अति उच्च

Question Number : 123 Question Id : 630680175521 Is Question Mandatory : No Calculator : None Response Time : N.A Think Time : N.A Minimum Instruction Time : 0

Wrong Marks : 0

What kind of strength is required to be developed for enhancing performance in jumping and throwing events?

Options :

1. ✘ Maximum strength
2. ✔ Explosive strength
3. ✘ Strength endurance
4. ✘ Relative strength

Question Number : 123 Question Id : 630680175521 Is Question Mandatory : No Calculator : None Response Time : N.A Think Time : N.A Minimum Instruction Time : 0

Wrong Marks : 0

कूदने और फेंकने की प्रतियोगिताओं में प्रदर्शन बढ़ाने के लिए किस प्रकार के बल को विकसित करने की आवश्यकता होती है?

Options :

1. ✘ अधिकतम बल (Maximum strength)
2. ✔ विस्फोटक बल (Explosive strength)
3. ✘ बल सह्यता (Strength endurance)
4. ✘ सापेक्ष बल (Relative strength)

Question Number : 124 Question Id : 630680175522 Is Question Mandatory : No Calculator : None Response Time : N.A Think Time : N.A Minimum Instruction Time : 0

Wrong Marks : 0

Which of the following statements is correct about limbering down?

Options :

1. ✘ It increases the core body temperature.
2. ✘ It makes the body ready for high intensity exercises.
3. ✘ It increases the heart rate and respiratory rate gradually.

4. ✓ It enables the heart rate, respiratory rate and muscle temperature to return to normal.

Question Number : 124 Question Id : 630680175522 Is Question Mandatory : No Calculator : None Response Time : N.A Think Time : N.A Minimum Instruction Time : 0

Wrong Marks : 0

शिथिलिकरण (limbering down) के संबंध में निम्नलिखित में से कौन-सा कथन सही है?

Options :

1. ✗ यह शरीर के कोर तापमान को बढ़ाता है।
2. ✗ यह शरीर को उच्च तीव्रता व्यायाम के लिए तैयार करता है।
3. ✗ यह हृदय दर और श्वसन दर को धीरे-धीरे बढ़ाता है।
4. ✓ यह हृदय दर, श्वसन दर और मांसपेशियों के तापमान को सामान्य करता है।

Question Number : 125 Question Id : 630680175523 Is Question Mandatory : No Calculator : None Response Time : N.A Think Time : N.A Minimum Instruction Time : 0

Wrong Marks : 0

Acceleration run is usually adopted to develop:

Options :

1. ✓ speed
2. ✗ endurance
3. ✗ strength
4. ✗ dynamic flexibility

Question Number : 125 Question Id : 630680175523 Is Question Mandatory : No Calculator : None Response Time : N.A Think Time : N.A Minimum Instruction Time : 0

Wrong Marks : 0

त्वरण रन (Acceleration run) सामान्यतः _____ विकसित करने के लिए अपनाया जाता है।

Options :

1. ✓ चाल (speed)
2. ✗ सह्यता (endurance)
3. ✗ बल (strength)
4. ✗ डायनेमिक फ्लेक्सिबिलिटी (dynamic flexibility)

Question Number : 126 Question Id : 630680175524 Is Question Mandatory : No Calculator : None Response Time : N.A Think Time : N.A Minimum Instruction Time : 0

Wrong Marks : 0

Which of the following sub-disciplines focuses on sports as a social phenomenon?

Options :

1. ✗ Sports biomechanics
2. ✗ Sports psychology
3. ✓ Sports sociology
4. ✗ Sports management

Question Number : 126 Question Id : 630680175524 Is Question Mandatory : No Calculator : None Response Time : N.A Think Time : N.A Minimum Instruction Time : 0

Wrong Marks : 0

निम्नलिखित में से कौन सा उप-विषय एक सामाजिक परिघटना के रूप में खेल पर केंद्रित है?

Options :

1. ✗ खेल जैवयांत्रिकी
2. ✗ खेल मनोविज्ञान
3. ✓ खेल समाजशास्त्र
4. ✗ खेल प्रबंधन

Question Number : 127 Question Id : 630680175525 Is Question Mandatory : No Calculator : None Response Time : N.A Think Time : N.A Minimum Instruction Time : 0

Wrong Marks : 0

All of the following are the qualities and behaviours related to sportsmanship EXCEPT:

Options :

1. ✘ fair play
2. ✘ modesty in victory or defeat
3. ✘ discipline
4. ✔ deceiving the referee

Question Number : 127 Question Id : 630680175525 Is Question Mandatory : No Calculator : None Response Time : N.A Think Time : N.A Minimum Instruction Time : 0

Wrong Marks : 0

निम्नलिखित में से किसे छोड़कर शेष सभी खेल भावना से संबंधित गुण और व्यवहार हैं?

Options :

1. ✘ निष्पक्ष खेल
2. ✘ जीत या हार में विनम्रता
3. ✘ अनुशासन
4. ✔ रेफरी को धोखा देना

Question Number : 128 Question Id : 630680175526 Is Question Mandatory : No Calculator : None Response Time : N.A Think Time : N.A Minimum Instruction Time : 0

Wrong Marks : 0

Sports is a strong social force for its:

Options :

1. ✘ economic power
2. ✘ global popularity
3. ✘ political significance
4. ✔ dynamism in all related fields

Question Number : 128 Question Id : 630680175526 Is Question Mandatory : No Calculator : None Response Time : N.A Think Time : N.A Minimum Instruction Time : 0

Wrong Marks : 0

खेल अपनी/अपने _____ के कारण एक मजबूत सामाजिक बल है।

Options :

1. ✘ आर्थिक शक्ति
2. ✘ वैश्विक लोकप्रियता
3. ✘ राजनीतिक महत्व
4. ✔ सभी संबंधित क्षेत्रों में गतिशीलता

Question Number : 129 Question Id : 630680175527 Is Question Mandatory : No Calculator : None Response Time : N.A Think Time : N.A Minimum Instruction Time : 0

Wrong Marks : 0

Which of the following is a sport considered to be India's contribution to world culture?

Options :

1. ✘ Badminton
2. ✘ Archery
3. ✔ Chess
4. ✘ Swimming

Question Number : 129 Question Id : 630680175527 Is Question Mandatory : No Calculator : None Response Time : N.A Think Time : N.A Minimum Instruction Time : 0

Wrong Marks : 0

निम्नलिखित में से किस खेल को विश्व संस्कृति में भारत का योगदान माना जाता है?

Options :

1. ✘ बैडमिंटन
2. ✘ तीरंदाजी
3. ✔ शतरंज
4. ✘ तैराकी

Question Number : 130 Question Id : 630680175528 Is Question Mandatory : No Calculator : None Response Time : N.A Think Time : N.A Minimum Instruction Time : 0

Wrong Marks : 0

In Physical Education, for any productive group participation the most important factor is:

Options :

1. ✘ all the members of the group must be equally skilled
2. ✔ active participation of every group member should be ensured
3. ✘ group leader must direct the group to accomplish the goal
4. ✘ role of each member should be clear, accepted and followed by all

Question Number : 130 Question Id : 630680175528 Is Question Mandatory : No Calculator : None Response Time : N.A Think Time : N.A Minimum Instruction Time : 0

Wrong Marks : 0

शारीरिक शिक्षा में, किसी उत्पादक समूह की भागीदारी के लिए सबसे महत्वपूर्ण कारक क्या है?

Options :

1. ✘ समूह के सभी सदस्यों को समान रूप से कुशल होना चाहिए
2. ✔ समूह के प्रत्येक सदस्य की सक्रिय भागीदारी सुनिश्चित की जानी चाहिए
3. ✘ समूह के लीडर को लक्ष्य पूरा करने के लिए समूह को निर्देशित करना चाहिए
4. ✘ प्रत्येक सदस्य की भूमिका स्पष्ट, स्वीकृत और सभी द्वारा अनुसरित की जानी चाहिए

Question Number : 131 Question Id : 630680175529 Is Question Mandatory : No Calculator : None Response Time : N.A Think Time : N.A Minimum Instruction Time : 0

Wrong Marks : 0

When a group of two or more people interact and make efforts to achieve a common goal for which they are committed, it is called a:

Options :

1. ✘ section
2. ✔ team
3. ✘ set
4. ✘ department

Question Number : 131 Question Id : 630680175529 Is Question Mandatory : No Calculator : None Response Time : N.A Think Time : N.A Minimum Instruction Time : 0

Wrong Marks : 0

जब दो या दो से अधिक लोगों का एक समूह पारस्परिक क्रिया करता है और एक सार्व लक्ष्य को प्राप्त करने के लिए प्रयास करता है जिसके लिए वे प्रतिबद्ध होते हैं, तो इसे क्या कहते हैं?

Options :

1. ✘ अनुभाग (section)
2. ✔ टीम (team)
3. ✘ समुच्चय (set)
4. ✘ विभाग (department)

Question Number : 132 Question Id : 630680175530 Is Question Mandatory : No Calculator : None Response Time : N.A Think Time : N.A Minimum Instruction Time : 0

Wrong Marks : 0

Which of the following is considered to be a technique of group dynamics?

Options :

1. ✓ Role playing
2. ✗ Communication gap
3. ✗ Negative criticism
4. ✗ Dishonour

Question Number : 132 Question Id : 630680175530 Is Question Mandatory : No Calculator : None Response Time : N.A Think Time : N.A Minimum Instruction Time : 0

Wrong Marks : 0

निम्नलिखित में से किसे समूह गतिशीलता की तकनीक माना जाता है?

Options :

1. ✓ भूमिका निर्वाह
2. ✗ संप्रेषण अभाव
3. ✗ नकारात्मक समीक्षा
4. ✗ अपमान

Question Number : 133 Question Id : 630680175531 Is Question Mandatory : No Calculator : None Response Time : N.A Think Time : N.A Minimum Instruction Time : 0

Wrong Marks : 0

Which of the following statements is correct about leadership?

Options :

1. ✗ Leadership is a driving force.
2. ✓ Leadership involves motivating individuals and the team to achieve a common goal.
3. ✗ Leadership involves dominating over teammates.
4. ✗ Leadership involves abiding by the opinion of every member of the team.

Question Number : 133 Question Id : 630680175531 Is Question Mandatory : No Calculator : None Response Time : N.A Think Time : N.A Minimum Instruction Time : 0

Wrong Marks : 0

नेतृत्व के संबंध में निम्नलिखित में से कौन सा कथन सही है?

Options :

1. ✗ नेतृत्व एक प्रेरक शक्ति है।
2. ✓ नेतृत्व में एक सार्व लक्ष्य प्राप्त करने के लिए व्यक्तियों और समूह को प्रेरित करना होता है।
3. ✗ नेतृत्व में समूह के साथियों पर प्रभुत्व रखना होता है।
4. ✗ नेतृत्व में टीम के प्रत्येक सदस्य की राय का पालन करना शामिल है।

Question Number : 134 Question Id : 630680175532 Is Question Mandatory : No Calculator : None Response Time : N.A Think Time : N.A Minimum Instruction Time : 0

Wrong Marks : 0

Which of the following is an Indian-origin game?

Options :

1. ✗ Badminton
2. ✓ Kho-kho
3. ✗ Basketball
4. ✗ Association Football

Question Number : 134 Question Id : 630680175532 Is Question Mandatory : No Calculator : None Response Time : N.A Think Time : N.A Minimum Instruction Time : 0

Wrong Marks : 0

निम्नलिखित में से कौन सा भारतीय-मूल का खेल है?

Options :

1. ✗ बैडमिंटन
2. ✓ खो-खो

3. ✘ बास्केटबॉल
4. ✘ एसोसिएशन फुटबॉल

Question Number : 135 Question Id : 630680175533 Is Question Mandatory : No Calculator : None Response Time : N.A Think Time : N.A Minimum Instruction Time : 0

Wrong Marks : 0

The width of a lane in a standard athletic track is:

Options :

1. ✘ 1.30 m
2. ✘ 1.25 m
3. ✔ 1.22 m
4. ✘ 1 m

Question Number : 135 Question Id : 630680175533 Is Question Mandatory : No Calculator : None Response Time : N.A Think Time : N.A Minimum Instruction Time : 0

Wrong Marks : 0

एक मानक एथलेटिक ट्रैक में एक लेन की चौड़ाई कितनी होती है?

Options :

1. ✘ 1.30 m
2. ✘ 1.25 m
3. ✔ 1.22 m
4. ✘ 1 m

Question Number : 136 Question Id : 630680175534 Is Question Mandatory : No Calculator : None Response Time : N.A Think Time : N.A Minimum Instruction Time : 0

Wrong Marks : 0

In a high jump event, how many consecutive failures at the same height or combination of heights causes an elimination of the competitor?

Options :

1. ✘ One
2. ✘ Two
3. ✔ Three
4. ✘ Four

Question Number : 136 Question Id : 630680175534 Is Question Mandatory : No Calculator : None Response Time : N.A Think Time : N.A Minimum Instruction Time : 0

Wrong Marks : 0

एक ऊँची कूद प्रतियोगिता में, समान ऊँचाई या ऊँचाई के संयोजन में कितनी लगातार असफलताओं के कारण प्रतियोगी का एलिमिनेशन हो जाता है?

Options :

1. ✘ एक
2. ✘ दो
3. ✔ तीन
4. ✘ चार

Question Number : 137 Question Id : 630680175535 Is Question Mandatory : No Calculator : None Response Time : N.A Think Time : N.A Minimum Instruction Time : 0

Wrong Marks : 0

The dimension of a standard basketball court is:

Options :

1. ✔ 28 m × 15 m
2. ✘ 26 m × 14 m
3. ✘ 26 m × 15 m
4. ✘ 28 m × 14 m

Question Number : 137 Question Id : 630680175535 Is Question Mandatory : No Calculator : None Response Time : N.A Think Time : N.A Minimum Instruction Time : 0

Wrong Marks : 0

एक मानक बास्केटबॉल कोर्ट की विमाएँ क्या होती हैं?

Options :

1. ✓ 28 m × 15 m
2. ✗ 26 m × 14 m
3. ✗ 26 m × 15 m
4. ✗ 28 m × 14 m

Question Number : 138 Question Id : 630680175536 Is Question Mandatory : No Calculator : None Response Time : N.A Think Time : N.A Minimum Instruction Time : 0

Wrong Marks : 0

Before releasing a discus, the discus thrower takes:

Options :

1. ✓ one-and-a-half spins
2. ✗ two-and-a-half spins
3. ✗ three-and-a-half spins
4. ✗ only half a spin

Question Number : 138 Question Id : 630680175536 Is Question Mandatory : No Calculator : None Response Time : N.A Think Time : N.A Minimum Instruction Time : 0

Wrong Marks : 0

चक्का फेंकने से पहले, चक्का फेंकने वाला कितने चक्कर लेता है?

Options :

1. ✓ डेढ़ चक्कर
2. ✗ ढाई चक्कर
3. ✗ साढ़े तीन चक्कर
4. ✗ केवल आधा चक्कर

Question Number : 139 Question Id : 630680175537 Is Question Mandatory : No Calculator : None Response Time : N.A Think Time : N.A Minimum Instruction Time : 0

Wrong Marks : 0

The First Asian Games were held in 1951 at:

Options :

1. ✓ New Delhi, India
2. ✗ Beijing, China
3. ✗ Seoul, South Korea
4. ✗ Tokyo, Japan

Question Number : 139 Question Id : 630680175537 Is Question Mandatory : No Calculator : None Response Time : N.A Think Time : N.A Minimum Instruction Time : 0

Wrong Marks : 0

1951 में प्रथम एशियाई खेल कहाँ आयोजित हुए थे?

Options :

1. ✓ नई दिल्ली, भारत
2. ✗ बीजिंग, चीन
3. ✗ सियोल, दक्षिण कोरिया
4. ✗ टोक्यो, जापान

Question Number : 140 Question Id : 630680175538 Is Question Mandatory : No Calculator : None Response Time : N.A Think Time : N.A Minimum Instruction Time : 0

Wrong Marks : 0

The term 'fast break' is associated with:

Options :

1. ✘ football
2. ✔ basketball
3. ✘ volleyball
4. ✘ tennis

Question Number : 140 Question Id : 630680175538 Is Question Mandatory : No Calculator : None Response Time : N.A Think Time : N.A Minimum Instruction Time : 0

Wrong Marks : 0

शब्द 'फास्ट ब्रेक (fast break)' किस खेल से संबंधित है?

Options :

1. ✘ फुटबॉल
2. ✔ बास्केटबॉल
3. ✘ वालीबॉल
4. ✘ टेनिस

Question Number : 141 Question Id : 630680175539 Is Question Mandatory : No Calculator : None Response Time : N.A Think Time : N.A Minimum Instruction Time : 0

Wrong Marks : 0

The most important thing about health is:

Options :

1. ✘ knowledge about health
2. ✘ worries related to health
3. ✘ analysis of diseases that occurred recently
4. ✔ putting the knowledge about health into practice regularly

Question Number : 141 Question Id : 630680175539 Is Question Mandatory : No Calculator : None Response Time : N.A Think Time : N.A Minimum Instruction Time : 0

Wrong Marks : 0

स्वास्थ्य के संबंध में सबसे महत्वपूर्ण बात क्या है?

Options :

1. ✘ स्वास्थ्य के बारे में ज्ञान
2. ✘ स्वास्थ्य से संबंधित चिंता
3. ✘ हाल ही में हुई बीमारियों का विश्लेषण
4. ✔ स्वास्थ्य के बारे में ज्ञान को नियमित रूप से अभ्यास में लाना

Question Number : 142 Question Id : 630680175540 Is Question Mandatory : No Calculator : None Response Time : N.A Think Time : N.A Minimum Instruction Time : 0

Wrong Marks : 0

Health is:

Options :

1. ✘ three-dimensional
2. ✘ two-dimensional
3. ✔ multidimensional
4. ✘ one-dimensional

Question Number : 142 Question Id : 630680175540 Is Question Mandatory : No Calculator : None Response Time : N.A Think Time : N.A Minimum Instruction Time : 0

Wrong Marks : 0

स्वास्थ्य _____ होती है।

Options :

1. ✘ त्रि-आयामी

2. ✘ द्वि-आयामी
3. ✔ बहुआयामी
4. ✘ एक-आयामी

Question Number : 143 Question Id : 630680175541 Is Question Mandatory : No Calculator : None Response Time : N.A Think Time : N.A Minimum Instruction Time : 0

Wrong Marks : 0

Principles of Health Education includes all of the following EXCEPT:

Options :

1. ✔ overloading
2. ✘ known to unknown
3. ✘ setting an example
4. ✘ learning by doing

Question Number : 143 Question Id : 630680175541 Is Question Mandatory : No Calculator : None Response Time : N.A Think Time : N.A Minimum Instruction Time : 0

Wrong Marks : 0

निम्नलिखित में से किसे छोड़कर शेष सभी स्वास्थ्य शिक्षा के सिद्धांतों में शामिल हैं?

Options :

1. ✔ अधिभारण (overloading)
2. ✘ ज्ञात से अज्ञात (known to unknown)
3. ✘ एक उदाहरण स्थापित करना (setting an example)
4. ✘ करके सीखना (learning by doing)

Question Number : 144 Question Id : 630680175542 Is Question Mandatory : No Calculator : None Response Time : N.A Think Time : N.A Minimum Instruction Time : 0

Wrong Marks : 0

All of the following are important reasons for community participation for health promotion EXCEPT:

Options :

1. ✘ creating a sense of involvement, acceptance and decision-making on health issues
2. ✘ provision of feedback to improve services
3. ✘ execution of human right for participation in health care planning and implementation
4. ✔ supporting a good medical business in exchange of receiving minimum services

Question Number : 144 Question Id : 630680175542 Is Question Mandatory : No Calculator : None Response Time : N.A Think Time : N.A Minimum Instruction Time : 0

Wrong Marks : 0

निम्नलिखित में से किसे छोड़कर शेष सभी स्वास्थ्य संवर्धन के लिए समुदाय सहभागिता के महत्वपूर्ण कारण हैं?

Options :

1. ✘ स्वास्थ्य के मुद्दों पर भागीदारी, स्वीकृति और निर्णय लेने की भावना उत्पन्न करना
2. ✘ सेवाओं में सुधार के लिए प्रतिक्रिया का प्रावधान
3. ✘ स्वास्थ्य देखभाल योजना और कार्यान्वयन में सहभागिता के लिए मानव अधिकार का निष्पादन
4. ✔ न्यूनतम सेवाएं प्राप्त करने के बदले एक अच्छे चिकित्सा व्यवसाय का समर्थन करना

Question Number : 145 Question Id : 630680175543 Is Question Mandatory : No Calculator : None Response Time : N.A Think Time : N.A Minimum Instruction Time : 0

Wrong Marks : 0

All of the following are the objectives of the Family Welfare Services EXCEPT:

Options :

1. ✔ providing job opportunities to every family
2. ✘ stabilising the population of the country
3. ✘ providing qualitative health services
4. ✘ immunisation to pregnant mother and children

Question Number : 145 Question Id : 630680175543 Is Question Mandatory : No Calculator : None Response Time : N.A Think Time : N.A Minimum Instruction Time : 0

Wrong Marks : 0

निम्नलिखित में से किसे छोड़कर शेष सभी परिवार कल्याण सेवाओं के उद्देश्य हैं?

Options :

1. ✓ प्रत्येक परिवार को रोजगार के अवसर प्रदान करना
2. ✗ देश की जनसंख्या को स्थिर करना
3. ✗ गुणात्मक स्वास्थ्य सेवाएं प्रदान करना
4. ✗ गर्भवती माँ और बच्चों का प्रतिरक्षण

Question Number : 146 Question Id : 630680175544 Is Question Mandatory : No Calculator : None Response Time : N.A Think Time : N.A Minimum Instruction Time : 0

Wrong Marks : 0

Communicable diseases are mainly caused by:

Options :

1. ✗ lifestyle behaviours
2. ✗ genetic issues
3. ✓ germs
4. ✗ exposure to toxic substances

Question Number : 146 Question Id : 630680175544 Is Question Mandatory : No Calculator : None Response Time : N.A Think Time : N.A Minimum Instruction Time : 0

Wrong Marks : 0

संचारी रोग मुख्य रूप से _____ होते हैं?

Options :

1. ✗ जीवन शैली व्यवहारों के कारण
2. ✗ आनुवंशिक कारणों से
3. ✓ कीटाणुओं के कारण
4. ✗ जहरीले पदार्थों के संपर्क में आने से

Question Number : 147 Question Id : 630680175545 Is Question Mandatory : No Calculator : None Response Time : N.A Think Time : N.A Minimum Instruction Time : 0

Wrong Marks : 0

Common colds and flu are generally spread by:

Options :

1. ✓ hand-to-face contact
2. ✗ drinking polluted water
3. ✗ insect bites
4. ✗ eating contaminated food

Question Number : 147 Question Id : 630680175545 Is Question Mandatory : No Calculator : None Response Time : N.A Think Time : N.A Minimum Instruction Time : 0

Wrong Marks : 0

जुकाम और बुखार सामान्यतः किससे फैलते हैं?

Options :

1. ✓ हाथ-से-मुख संपर्क से
2. ✗ प्रदूषित जल पीने से
3. ✗ कीड़े के काटने से
4. ✗ संदूषित भोजन करने से

Question Number : 148 Question Id : 630680175546 Is Question Mandatory : No Calculator : None Response Time : N.A Think

Time : N.A Minimum Instruction Time : 0

Wrong Marks : 0

A communicable disease is essentially a/an:

Options :

1. ✘ non-transmissible disease
2. ✘ acquired disease
3. ✔ infectious disease
4. ✘ genetic disease

Question Number : 148 Question Id : 630680175546 Is Question Mandatory : No Calculator : None Response Time : N.A Think Time : N.A Minimum Instruction Time : 0

Wrong Marks : 0

एक संचारी रोग अनिवार्य रूप _____ होता है।

Options :

1. ✘ असक्रामक रोग
2. ✘ उपार्जित रोग
3. ✔ संक्रामक रोग
4. ✘ आनुवंशिक रोग

Question Number : 149 Question Id : 630680175547 Is Question Mandatory : No Calculator : None Response Time : N.A Think Time : N.A Minimum Instruction Time : 0

Wrong Marks : 0

The animal associated with Ebola virus is:

Options :

1. ✔ bat
2. ✘ rat
3. ✘ mosquito
4. ✘ guinea pig

Question Number : 149 Question Id : 630680175547 Is Question Mandatory : No Calculator : None Response Time : N.A Think Time : N.A Minimum Instruction Time : 0

Wrong Marks : 0

इबोला विषाणु (Ebola virus) से संबद्ध जीव निम्नलिखित में से कौन-सा है?

Options :

1. ✔ चमगादड़
2. ✘ चूहा
3. ✘ मच्छर
4. ✘ गिनी पिंग

Question Number : 150 Question Id : 630680175548 Is Question Mandatory : No Calculator : None Response Time : N.A Think Time : N.A Minimum Instruction Time : 0

Wrong Marks : 0

AIDS is a disease that is:

Options :

1. ✘ inherited
2. ✔ acquired
3. ✘ vector-borne
4. ✘ fomite-borne

Question Number : 150 Question Id : 630680175548 Is Question Mandatory : No Calculator : None Response Time : N.A Think Time : N.A Minimum Instruction Time : 0

Wrong Marks : 0

एड्स (AIDS) एक ऐसी बीमारी है जो _____ होती है।

Options :

1. ✘ वंशागत
2. ✔ अधिगृहीत
3. ✘ रोगवाहक जनित
4. ✘ संक्रमणी पदार्थ जनित

Question Number : 151 Question Id : 630680175549 Is Question Mandatory : No Calculator : None Response Time : N.A Think Time : N.A Minimum Instruction Time : 0

Wrong Marks : 0

Which of the following is a common signal that indicates the onset of communicable disease?

Options :

1. ✔ Rising body temperature and fluctuation
2. ✘ Loss of body weight
3. ✘ Chest pain
4. ✘ Sweating

Question Number : 151 Question Id : 630680175549 Is Question Mandatory : No Calculator : None Response Time : N.A Think Time : N.A Minimum Instruction Time : 0

Wrong Marks : 0

निम्नलिखित में से कौन सा एक सामान्य संकेत है जो संचारी रोग की शुरुआत का संकेत देता है?

Options :

1. ✔ शरीर के तापमान का बढ़ना और उतार-चढ़ाव
2. ✘ शरीर के वजन में कमी
3. ✘ छाती में दर्द
4. ✘ पसीना आना

Question Number : 152 Question Id : 630680175550 Is Question Mandatory : No Calculator : None Response Time : N.A Think Time : N.A Minimum Instruction Time : 0

Wrong Marks : 0

Hepatitis B virus can be transmitted:

Options :

1. ✔ from an infected mother to the newborn
2. ✘ by shaking hands with people already infected
3. ✘ by getting bitten by insects
4. ✘ from contaminated food

Question Number : 152 Question Id : 630680175550 Is Question Mandatory : No Calculator : None Response Time : N.A Think Time : N.A Minimum Instruction Time : 0

Wrong Marks : 0

हेपेटाइटिस B विषाणु _____ संचारित हो सकता है।

Options :

1. ✔ संक्रमित माँ से नवजात शिशु में
2. ✘ पहले से संक्रमित लोगों से हाथ मिलाने से
3. ✘ कीड़ों के काटने से
4. ✘ संदूषित भोजन से

Question Number : 153 Question Id : 630680175551 Is Question Mandatory : No Calculator : None Response Time : N.A Think Time : N.A Minimum Instruction Time : 0

Wrong Marks : 0

Which of the following plants is the source of heroin?

Options :

1. ✘ Datura
2. ✘ Cannabis

3. ✓ Poppy
4. ✗ Tobacco

Question Number : 153 Question Id : 630680175551 Is Question Mandatory : No Calculator : None Response Time : N.A Think Time : N.A Minimum Instruction Time : 0

Wrong Marks : 0

निम्नलिखित में से कौन सा पौधा हेरोइन का स्रोत है?

Options :

1. ✗ धतूरा (Datura)
2. ✗ कैनबिस (Cannabis)
3. ✓ पोस्ता (Poppy)
4. ✗ तंबाकू (Tobacco)

Question Number : 154 Question Id : 630680175552 Is Question Mandatory : No Calculator : None Response Time : N.A Think Time : N.A Minimum Instruction Time : 0

Wrong Marks : 0

What should be done by a teen if a peer group offers alcohol?

Options :

1. ✗ Fit into place
2. ✗ Leave the place
3. ✓ Avoid it
4. ✗ Bargain it

Question Number : 154 Question Id : 630680175552 Is Question Mandatory : No Calculator : None Response Time : N.A Think Time : N.A Minimum Instruction Time : 0

Wrong Marks : 0

यदि एक सहकर्मी समूह शराब की पेशकश करता है तो एक किशोर को क्या करना चाहिए?

Options :

1. ✗ समूह में शामिल हो जाना चाहिए (Fit into place)
2. ✗ वहाँ से चले जाना चाहिए (Leave the place)
3. ✓ टालना चाहिए (Avoid it)
4. ✗ समझौता करना चाहिए (Bargain it)

Question Number : 155 Question Id : 630680175553 Is Question Mandatory : No Calculator : None Response Time : N.A Think Time : N.A Minimum Instruction Time : 0

Wrong Marks : 0

Drug addiction affects the brain and reduces all of the following EXCEPT:

Options :

1. ✗ decision-making ability
2. ✗ judgment ability
3. ✓ drug dependence
4. ✗ learning ability

Question Number : 155 Question Id : 630680175553 Is Question Mandatory : No Calculator : None Response Time : N.A Think Time : N.A Minimum Instruction Time : 0

Wrong Marks : 0

नशीली पदार्थों की लत मस्तिष्क को प्रभावित करती है और निम्नलिखित में से किसे छोड़कर शेष सभी को कम करती है?

Options :

1. ✗ निर्णय लेने की क्षमता
2. ✗ निर्धारण क्षमता
3. ✓ नशीले पदार्थ पर निर्भरता
4. ✗ अधिगम क्षमता

Question Number : 156 Question Id : 630680175554 Is Question Mandatory : No Calculator : None Response Time : N.A Think Time : N.A Minimum Instruction Time : 0

Wrong Marks : 0

'Eating too much and moving too little' causes:

Options :

1. ✓ obesity
2. ✗ stunting
3. ✗ kwashiorkor
4. ✗ marasmus

Question Number : 156 Question Id : 630680175554 Is Question Mandatory : No Calculator : None Response Time : N.A Think Time : N.A Minimum Instruction Time : 0

Wrong Marks : 0

बहुत ज्यादा खाने और बहुत कम चलने से क्या होता है?

Options :

1. ✓ मोटापा (obesity)
2. ✗ वृद्धिरोध (stunting)
3. ✗ काशियोरकॉर (kwashiorkor)
4. ✗ सूखारोग (marasmus)

Question Number : 157 Question Id : 630680175555 Is Question Mandatory : No Calculator : None Response Time : N.A Think Time : N.A Minimum Instruction Time : 0

Wrong Marks : 0

Severe obesity or high-risk obesity is categorised when Body Mass Index (BMI) of a person is:

Options :

1. ✗ 25 to <30
2. ✗ 30 to < 35
3. ✗ 35 to < 40
4. ✓ 40 or higher

Question Number : 157 Question Id : 630680175555 Is Question Mandatory : No Calculator : None Response Time : N.A Think Time : N.A Minimum Instruction Time : 0

Wrong Marks : 0

गंभीर मोटापे या उच्च जोखिम वाले मोटापे को तब वर्गीकृत किया जाता है जब किसी व्यक्ति के बॉडी मास इंडेक्स (BMI) _____ होता है।

Options :

1. ✗ 25 से <30
2. ✗ 30 से <35
3. ✗ 35 से <40
4. ✓ 40 या उच्चतर

Question Number : 158 Question Id : 630680175556 Is Question Mandatory : No Calculator : None Response Time : N.A Think Time : N.A Minimum Instruction Time : 0

Wrong Marks : 0

Obese people are prone to many diseases including:

Options :

1. ✗ Diarrhoea
2. ✓ Diabetes Type 2
3. ✗ AIDS
4. ✗ Dengue

Question Number : 158 Question Id : 630680175556 Is Question Mandatory : No Calculator : None Response Time : N.A Think Time : N.A Minimum Instruction Time : 0

Wrong Marks : 0

मोटे लोगों को कई तरह की बीमारियाँ होने का खतरा होता है, जिनमें _____ शामिल है।

Options :

1. ✘ दस्त
2. ✔ मधुमेह प्रकार 2
3. ✘ एड्स
4. ✘ डेंगू

Question Number : 159 Question Id : 630680175557 Is Question Mandatory : No Calculator : None Response Time : N.A Think Time : N.A Minimum Instruction Time : 0**Wrong Marks : 0**

Which of the following substances is banned in sports by the World Anti-Doping Agency (WADA)?

Options :

1. ✘ Caffeine
2. ✘ Tea
3. ✔ Human Growth Hormone
4. ✘ Ashwagandha

Question Number : 159 Question Id : 630680175557 Is Question Mandatory : No Calculator : None Response Time : N.A Think Time : N.A Minimum Instruction Time : 0**Wrong Marks : 0**

निम्नलिखित में से किस पदार्थ को विश्व डोपिंग रोधी एजेंसी (WADA) द्वारा खेल में प्रतिबंधित किया गया है?

Options :

1. ✘ कैफीन
2. ✘ चाय
3. ✔ मानव विकास हार्मोन
4. ✘ अश्वगंधा

Question Number : 160 Question Id : 630680175558 Is Question Mandatory : No Calculator : None Response Time : N.A Think Time : N.A Minimum Instruction Time : 0**Wrong Marks : 0**

Environmental health involves:

Options :

1. ✔ all factors external to human being
2. ✘ physical factors
3. ✘ chemical factors
4. ✘ biological factors

Question Number : 160 Question Id : 630680175558 Is Question Mandatory : No Calculator : None Response Time : N.A Think Time : N.A Minimum Instruction Time : 0**Wrong Marks : 0**

पर्यावरणीय स्वास्थ्य में _____ शामिल होते हैं।

Options :

1. ✔ मनुष्य से संबंधित सभी बाहरी कारक
2. ✘ भौतिक कारक
3. ✘ रासायनिक कारक
4. ✘ जैविक कारक

Question Number : 161 Question Id : 630680175559 Is Question Mandatory : No Calculator : None Response Time : N.A Think Time : N.A Minimum Instruction Time : 0**Wrong Marks : 0**

Environmental pollution causes disease like:

Options :

1. ✘ osteoporosis
2. ✘ diabetes
3. ✔ cancer
4. ✘ morbid obesity

Question Number : 161 Question Id : 630680175559 Is Question Mandatory : No Calculator : None Response Time : N.A Think Time : N.A Minimum Instruction Time : 0

Wrong Marks : 0

पर्यावरण प्रदूषण से _____ जैसे रोग होते हैं।

Options :

1. ✘ अस्थिसुषिरता (osteoporosis)
2. ✘ मधुमेह (diabetes)
3. ✔ कैंसर (cancer)
4. ✘ रोगजन्य मोटापा (morbid obesity)

Question Number : 162 Question Id : 630680175560 Is Question Mandatory : No Calculator : None Response Time : N.A Think Time : N.A Minimum Instruction Time : 0

Wrong Marks : 0

The addition of which of the following chemicals destroys harmful germs and provides us with safe drinking water?

Options :

1. ✘ Oxygen
2. ✘ Carbon dioxide
3. ✘ Nitrogen
4. ✔ Chlorine

Question Number : 162 Question Id : 630680175560 Is Question Mandatory : No Calculator : None Response Time : N.A Think Time : N.A Minimum Instruction Time : 0

Wrong Marks : 0

निम्नलिखित में से किस रसायन को मिलाने से हानिकारक कीटाणु नष्ट हो जाते हैं और हमें सुरक्षित पेयजल उपलब्ध होता है?

Options :

1. ✘ ऑक्सीजन
2. ✘ कार्बन डाईऑक्साइड
3. ✘ नाइट्रोजन
4. ✔ क्लोरीन

Question Number : 163 Question Id : 630680175561 Is Question Mandatory : No Calculator : None Response Time : N.A Think Time : N.A Minimum Instruction Time : 0

Wrong Marks : 0

Which of the following factors is a preventive measure of an accident?

Options :

1. ✘ Carelessness
2. ✘ Hurriedness
3. ✔ Alertness
4. ✘ Lack of knowledge

Question Number : 163 Question Id : 630680175561 Is Question Mandatory : No Calculator : None Response Time : N.A Think Time : N.A Minimum Instruction Time : 0

Wrong Marks : 0

निम्नलिखित में से कौन सा कारक दुर्घटना का निवारक उपाय है?

Options :

1. ✘ लापरवाही
2. ✘ जल्दबाजी

3. ✓ सतर्कता
4. ✗ ज्ञान की कमी

Question Number : 164 Question Id : 630680175562 Is Question Mandatory : No Calculator : None Response Time : N.A Think Time : N.A Minimum Instruction Time : 0

Wrong Marks : 0

Which of the following is the most vulnerable factor involved in accidental drowning deaths in swimming pools/ponds?

Options :

1. ✗ Empty stomach
2. ✓ Drinking alcohol
3. ✗ Fast food consumption
4. ✗ Full meal consumption

Question Number : 164 Question Id : 630680175562 Is Question Mandatory : No Calculator : None Response Time : N.A Think Time : N.A Minimum Instruction Time : 0

Wrong Marks : 0

स्विमिंग पूल/तालाबों में दुर्घटनावश डूबने से होने वाली मौतों में शामिल सबसे असुरक्षित कारक (vulnerable factor) कौन-सा है?

Options :

1. ✗ खाली पेट होना
2. ✓ शराब पीना
3. ✗ फास्ट फूड का सेवन
4. ✗ पूर्ण आहार का सेवन

Question Number : 165 Question Id : 630680175563 Is Question Mandatory : No Calculator : None Response Time : N.A Think Time : N.A Minimum Instruction Time : 0

Wrong Marks : 0

In a family life cycle, the first stage of a family is:

Options :

1. ✗ parenting
2. ✓ coupling or marriage
3. ✗ launching adult child
4. ✗ senior years

Question Number : 165 Question Id : 630680175563 Is Question Mandatory : No Calculator : None Response Time : N.A Think Time : N.A Minimum Instruction Time : 0

Wrong Marks : 0

पारिवारिक जीवन चक्र में, परिवार का प्रथम चरण क्या होता है?

Options :

1. ✗ पालन-पोषण (parenting)
2. ✓ युग्मन या विवाह (coupling or marriage)
3. ✗ वयस्क बच्चे को प्रस्तुत करना (launching adult child)
4. ✗ वरिष्ठ वर्ष (senior years)

Question Number : 166 Question Id : 630680175564 Is Question Mandatory : No Calculator : None Response Time : N.A Think Time : N.A Minimum Instruction Time : 0

Wrong Marks : 0

All of the following are functions of a family as a social group EXCEPT:

Options :

1. ✗ providing identity to an individual
2. ✗ socialisation
3. ✗ cultural transmission
4. ✓ formal education

Question Number : 166 Question Id : 630680175564 Is Question Mandatory : No Calculator : None Response Time : N.A Think Time : N.A Minimum Instruction Time : 0

Wrong Marks : 0

निम्नलिखित में से किसे छोड़कर शेष सभी एक सामाजिक समूह के रूप में एक परिवार के कार्य हैं?

Options :

1. ✖ किसी व्यक्ति को पहचान प्रदान करना
2. ✖ समाजीकरण
3. ✖ सांस्कृतिक प्रेषण
4. ✔ औपचारिक शिक्षा

Question Number : 167 Question Id : 630680175565 Is Question Mandatory : No Calculator : None Response Time : N.A Think Time : N.A Minimum Instruction Time : 0

Wrong Marks : 0

The term 'adolescent' is derived from the Latin word 'adolescere', which means:

Options :

1. ✔ to grow up to become mature
2. ✖ to behave like adults
3. ✖ to grow in height and weight
4. ✖ to struggle

Question Number : 167 Question Id : 630680175565 Is Question Mandatory : No Calculator : None Response Time : N.A Think Time : N.A Minimum Instruction Time : 0

Wrong Marks : 0

adolescent' शब्द लैटिन शब्द 'adolescere' से लिया गया है, जिसका अर्थ _____ है।

Options :

1. ✔ प्रौढ़ होने के लिए बड़ा होना
2. ✖ वयस्कों की तरह व्यवहार करना
3. ✖ लंबाई और वजन में बढ़ना
4. ✖ संघर्ष करना

Question Number : 168 Question Id : 630680175566 Is Question Mandatory : No Calculator : None Response Time : N.A Think Time : N.A Minimum Instruction Time : 0

Wrong Marks : 0

An adolescent's problem is decision making. Which adolescent trait is responsible for the same?

Options :

1. ✔ Abstract thinking
2. ✖ Cognitive skills
3. ✖ Adjustment ability
4. ✖ Peer pressure

Question Number : 168 Question Id : 630680175566 Is Question Mandatory : No Calculator : None Response Time : N.A Think Time : N.A Minimum Instruction Time : 0

Wrong Marks : 0

एक किशोर को निर्णय लेने में समस्या होती है। इसके लिए कौन सा किशोर विशेषक (adolescent trait) उत्तरदायी होता है?

Options :

1. ✔ अमूर्त चिंतन (Abstract thinking)
2. ✖ संज्ञानात्मक कौशल (Cognitive skills)
3. ✖ समायोजन क्षमता (Adjustment ability)
4. ✖ सहकर्मी दबाव (Peer pressure)

Question Number : 169 Question Id : 630680175567 Is Question Mandatory : No Calculator : None Response Time : N.A Think Time : N.A Minimum Instruction Time : 0

Wrong Marks : 0

Puberty is a phase of life directly related to:

Options :

1. ✘ spiritual development
2. ✘ intellectual development
3. ✘ occupational development
4. ✔ sexual development

Question Number : 169 Question Id : 630680175567 Is Question Mandatory : No Calculator : None Response Time : N.A Think Time : N.A Minimum Instruction Time : 0

Wrong Marks : 0

यौवनारंभ जीवन का एक चरण है जो सीधे _____ संबंधित होता है।

Options :

1. ✘ आध्यात्मिक विकास
2. ✘ बौद्धिक विकास
3. ✘ व्यावसायिक विकास
4. ✔ लैंगिक विकास

Question Number : 170 Question Id : 630680175568 Is Question Mandatory : No Calculator : None Response Time : N.A Think Time : N.A Minimum Instruction Time : 0

Wrong Marks : 0

A girl should do all of the following during her menstrual cycle EXCEPT:

Options :

1. ✘ eat healthy foods
2. ✔ smoke
3. ✘ do gentle stretching
4. ✘ take warm bath

Question Number : 170 Question Id : 630680175568 Is Question Mandatory : No Calculator : None Response Time : N.A Think Time : N.A Minimum Instruction Time : 0

Wrong Marks : 0

एक लड़की को अपने मासिकधर्म के दौरान निम्नलिखित में से किसे छोड़कर शेष सभी कार्य करने चाहिए?

Options :

1. ✘ स्वस्थ भोजन खाना
2. ✔ धुम्रपान
3. ✘ हल्की स्ट्रेचिंग करना
4. ✘ गर्म पानी से स्नान

Question Number : 171 Question Id : 630680175569 Is Question Mandatory : No Calculator : None Response Time : N.A Think Time : N.A Minimum Instruction Time : 0

Wrong Marks : 0

Teenage pregnancy rate is higher among those with:

Options :

1. ✔ less education and low economic status
2. ✘ high economic status
3. ✘ high education level
4. ✘ high education and high economic status

Question Number : 171 Question Id : 630680175569 Is Question Mandatory : No Calculator : None Response Time : N.A Think Time : N.A Minimum Instruction Time : 0

Wrong Marks : 0

_____ वाले लोगों में किशोर गर्भावस्था दर अधिक होती है।

Options :

1. ✔ निम्न शिक्षा और निम्न आर्थिक स्थिति

2. ✖ उच्च आर्थिक स्थिति
3. ✖ उच्च शिक्षा स्तर
4. ✖ उच्च शिक्षा और उच्च आर्थिक स्थिति

Question Number : 172 Question Id : 630680175570 Is Question Mandatory : No Calculator : None Response Time : N.A Think Time : N.A Minimum Instruction Time : 0

Wrong Marks : 0

Which of the following is classified as a soft-tissue injury?

Options :

1. ✔ Contusion
2. ✖ Dislocation
3. ✖ Greenstick injury
4. ✖ Closed fracture

Question Number : 172 Question Id : 630680175570 Is Question Mandatory : No Calculator : None Response Time : N.A Think Time : N.A Minimum Instruction Time : 0

Wrong Marks : 0

निम्नलिखित में से किसे मृदु-ऊतक चोट के रूप में वर्गीकृत किया जाता है?

Options :

1. ✔ भीतरी चोट (Contusion)
2. ✖ संधिच्युति (Dislocation)
3. ✖ ग्रीनस्टिक चोट (Greenstick injury)
4. ✖ बंद अस्थिभंग (Closed fracture)

Question Number : 173 Question Id : 630680175571 Is Question Mandatory : No Calculator : None Response Time : N.A Think Time : N.A Minimum Instruction Time : 0

Wrong Marks : 0

Which of the following should be the immediate action by a first aider to manage ankle sprain?

Options :

1. ✖ Massage
2. ✖ Do homeopathy
3. ✔ Apply R.I.C.E. protocol
4. ✖ Apply heat pack

Question Number : 173 Question Id : 630680175571 Is Question Mandatory : No Calculator : None Response Time : N.A Think Time : N.A Minimum Instruction Time : 0

Wrong Marks : 0

टखने की मोच को नियंत्रित करने के लिए प्राथमिक उपचारकर्ता द्वारा निम्नलिखित में से कौन सी तत्काल कार्रवाई की जानी चाहिए?

Options :

1. ✖ मालिश
2. ✖ होम्योपैथी
3. ✔ R.I.C.E. प्रोटोकॉल लागू करना
4. ✖ हीट पैक लगाना

Question Number : 174 Question Id : 630680175572 Is Question Mandatory : No Calculator : None Response Time : N.A Think Time : N.A Minimum Instruction Time : 0

Wrong Marks : 0

Which of the following supportive devices can be used by a first aider to immobilise the body part of a victim immediately after he has sustained a bone injury?

Options :

1. ✔ Splint
2. ✖ Cervical collars
3. ✖ Plaster cast

4. ✖ Crutch

Question Number : 174 Question Id : 630680175572 Is Question Mandatory : No Calculator : None Response Time : N.A Think Time : N.A Minimum Instruction Time : 0

Wrong Marks : 0

हड्डी में चोट लगने के तुरंत बाद पीड़ित के शरीर के अंग को स्थिर करने के लिए प्राथमिक उपचारकर्ता द्वारा निम्नलिखित में से किस सहायक उपकरण का उपयोग किया जा सकता है?

Options :

1. ✔ स्प्लिन्ट (Splint)
2. ✖ सरवाइकल कॉलर (Cervical collars)
3. ✖ प्लास्टर साँचा (Plaster cast)
4. ✖ बैसाखी (Crutch)

Question Number : 175 Question Id : 630680175573 Is Question Mandatory : No Calculator : None Response Time : N.A Think Time : N.A Minimum Instruction Time : 0

Wrong Marks : 0

What will happen if heat is applied to an injured limb immediately after injury?

Options :

1. ✔ Condition may worsen and healing will be slow
2. ✖ Infection will take place
3. ✖ Swelling will increase
4. ✖ Pain sensitivity will be reduced

Question Number : 175 Question Id : 630680175573 Is Question Mandatory : No Calculator : None Response Time : N.A Think Time : N.A Minimum Instruction Time : 0

Wrong Marks : 0

यदि चोट लगने के तुरंत बाद किसी घायल अंग पर सिकाई की जाए तो क्या होगा?

Options :

1. ✔ स्थिति और खराब हो सकती है और उपचार धीमा होगा
2. ✖ संक्रमण हो जाएगा
3. ✖ सूजन बढ़ जाएगी
4. ✖ दर्द संवेदनशीलता कम हो जाएगी

Question Number : 176 Question Id : 630680175574 Is Question Mandatory : No Calculator : None Response Time : N.A Think Time : N.A Minimum Instruction Time : 0

Wrong Marks : 0

When bone breaks and also damages the internal organs, the type of fracture is called:

Options :

1. ✖ compound fracture
2. ✔ complicated fracture
3. ✖ comminuted fracture
4. ✖ impacted fracture

Question Number : 176 Question Id : 630680175574 Is Question Mandatory : No Calculator : None Response Time : N.A Think Time : N.A Minimum Instruction Time : 0

Wrong Marks : 0

जब हड्डी टूट जाती है और आंतरिक अंगों को भी क्षति पहुँचाती है, तो अस्थिभंग के प्रकार को क्या कहा जाता है?

Options :

1. ✖ विवृत अस्थिभंग (compound fracture)
2. ✔ जटिल अस्थिभंग (complicated fracture)
3. ✖ विखण्डित अस्थिभंग (comminuted fracture)
4. ✖ अंतर्घट्ट अस्थिभंग (impacted fracture)

Question Number : 177 Question Id : 630680175575 Is Question Mandatory : No Calculator : None Response Time : N.A Think Time : N.A Minimum Instruction Time : 0

Wrong Marks : 0

All of the following are the general safety precautions to prevent sports injuries EXCEPT:

Options :

1. ✖ wearing right sporting gears and properly fit shoes
2. ✖ properly warming up and limbering down
3. ✔ playing with sustained pain considering the myth 'no pain, no gain'
4. ✖ acquiring skills which are mechanically correct

Question Number : 177 Question Id : 630680175575 Is Question Mandatory : No Calculator : None Response Time : N.A Think Time : N.A Minimum Instruction Time : 0

Wrong Marks : 0

खेल की चोटों को रोकने के लिए निम्नलिखित में से किसे छोड़कर शेष सभी सामान्य सुरक्षा सावधानियाँ हैं?

Options :

1. ✖ सही स्पोर्टिंग गियर और ठीक से फिट जूते पहनना
2. ✖ उचित रूप से वार्म अप (warming up) करना और लिम्बरिंग डाउन (limbering down) करना
3. ✔ कोई दर्द नहीं, कोई लाभ नहीं ('no pain, no gain') के मिथक पर विचार करते हुए निरंतर दर्द में खेलना
4. ✖ यांत्रिक रूप से सही कौशल प्राप्त करना

Question Number : 178 Question Id : 630680175576 Is Question Mandatory : No Calculator : None Response Time : N.A Think Time : N.A Minimum Instruction Time : 0

Wrong Marks : 0

The aim of first aid is to provide:

Options :

1. ✖ professional care to the ill or injured person
2. ✖ the best medical treatment to the victim
3. ✔ immediate assistance to the victim to preserve life
4. ✖ medicines to the victim

Question Number : 178 Question Id : 630680175576 Is Question Mandatory : No Calculator : None Response Time : N.A Think Time : N.A Minimum Instruction Time : 0

Wrong Marks : 0

प्राथमिक चिकित्सा का उद्देश्य क्या प्रदान करना है?

Options :

1. ✖ बीमार या घायल व्यक्ति की पेशेवर देखभाल
2. ✖ पीड़ित को सर्वोत्तम चिकित्सा
3. ✔ पीड़ित के जीवन को बचाने के लिए तत्काल सहायता
4. ✖ पीड़ित को दवाएं

Question Number : 179 Question Id : 630680175577 Is Question Mandatory : No Calculator : None Response Time : N.A Think Time : N.A Minimum Instruction Time : 0

Wrong Marks : 0

Misstep and landing in gymnastics on the side of foot commonly causes a:

Options :

1. ✔ sprain
2. ✖ strain
3. ✖ fracture
4. ✖ dislocation

Question Number : 179 Question Id : 630680175577 Is Question Mandatory : No Calculator : None Response Time : N.A Think Time : N.A Minimum Instruction Time : 0

Wrong Marks : 0

जिम्नास्टिक में पैर के किनारे पर मिस्टेप और लैंडिंग सामान्यतः निम्नलिखित में से किसका कारण बनता है?

Options :

1. ✓ मोच (sprain)
2. ✗ ऐंठन (strain)
3. ✗ अस्थिभंग (fracture)
4. ✗ संधिच्युति (dislocation)

Question Number : 180 Question Id : 630680175578 Is Question Mandatory : No Calculator : None Response Time : N.A Think Time : N.A Minimum Instruction Time : 0

Wrong Marks : 0

A joint twist resulting in tear of connective tissue is called a:

Options :

1. ✓ sprain
2. ✗ strain
3. ✗ crack
4. ✗ dislocation

Question Number : 180 Question Id : 630680175578 Is Question Mandatory : No Calculator : None Response Time : N.A Think Time : N.A Minimum Instruction Time : 0

Wrong Marks : 0

एक संधि मोड़ (joint twist) जिसके परिणामस्वरूप संयोजी ऊतक फट जाते हैं, _____ कहलाती है।

Options :

1. ✓ मोच (sprain)
2. ✗ ऐंठन (strain)
3. ✗ दरार (crack)
4. ✗ संधिच्युति (dislocation)